

Go Go Ranger!

2020. 6. 3

豊中市立野畑小学校 5年

臨時第27号

今日は算数で学習している『合同な図形』の復習をしましょう！覚えているかな？

レベル1

合同な図形とはどんな図形のことをいいますか？○の中にはどんな言葉が入るかな？

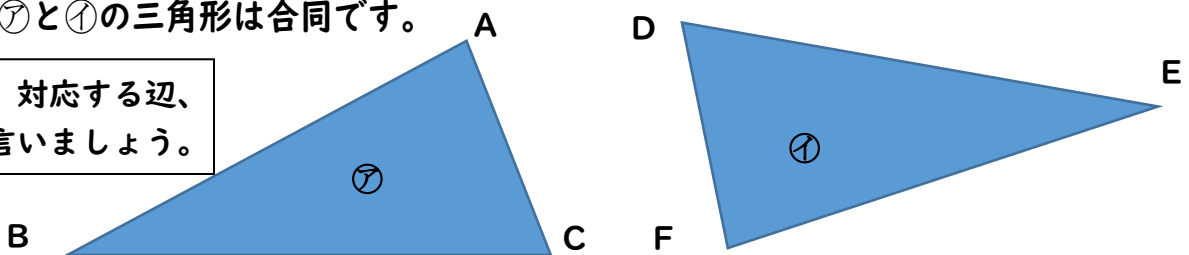
「○○○○重なる図形」

答え ぴったり

レベル2

⑦と⑧の三角形は合同です。

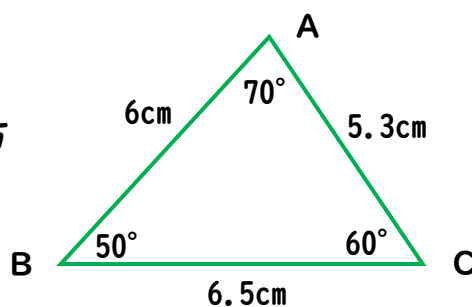
対応する頂点、対応する辺、
対応する角を言いましょ。



合同な図形で、重なり合う頂点、重なり合う辺、重なり合う角を、それぞれ対応する頂点、対応する辺、対応する角といいます。また、対応する辺の長さは等しく、対応する角の大きさも等しくなります。

レベル3

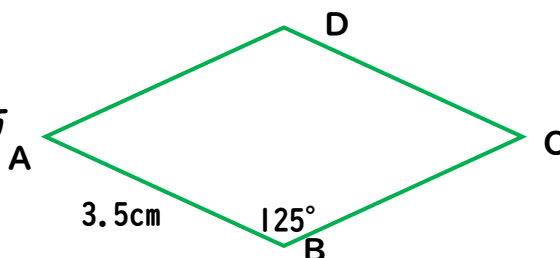
右の三角形と合同な三角形のかき方を言葉で説明してみよう！



コンパス作戦
分度器作戦
コンパス&分度器作戦
それぞれのかき方が説明できたらいいね♪

レベル4 (チャレンジ)

右のひし形と合同なひし形のかき方を言葉で説明してみよう！



覚えていたかな？わからないところは、教科書P.19~28を見て思い出しておこう♪