

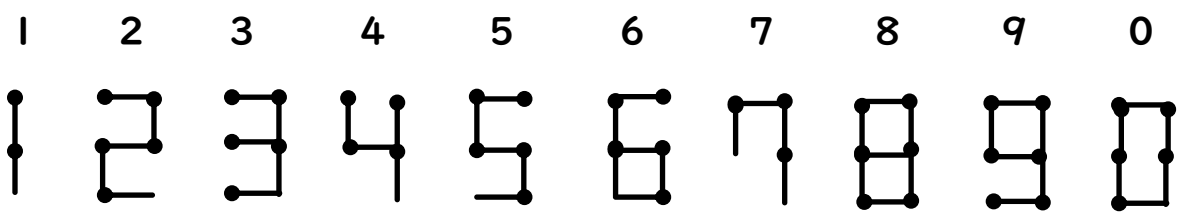
豊中市立野畑小学校

5月号 2020.5.26

臨時22号

<ぼうクイズにちょうせん!> ぼうを1本ふやして正しい「しき」にしよう!

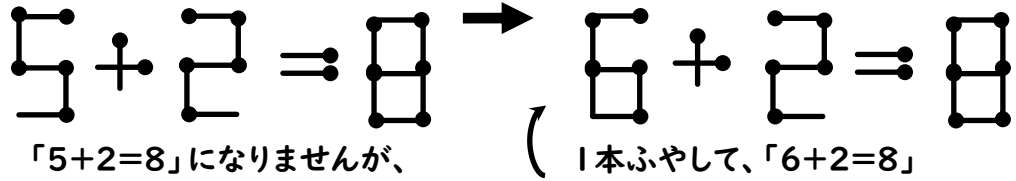
おなじ ながさの ぼうを なん本かつかって、数字をつくる ことができます。



ぼうで、しきをつくりましたが、まちがっています。

数字の ぼうを 1本 ふやして 正しい しきを しましょう。

(れい)



★では、もんだいです。あなたは なんもん できるかな？

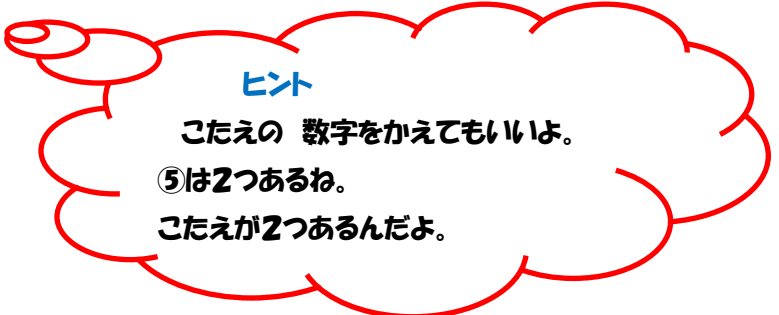
① $5 + 1 = 10$

② $8 - 5 = 2$

③ $2 + 6 = 6$

④ $10 - 9 = 9$

⑤ $5 + 3 = 9$
 $5 + 3 = 9$



ヒント

こたえの 数字をかえてもいいよ。

⑤は2つあるね。

こたえが2つあるんだよ。