







3年学年だよ！ 3シャイン！！

豊中市立野畑小学校 臨時休校配信号②

前回の答え

- ①  小学校 ②  こうばん 交番 ③  はし 橋
- ④  としよかん 図書館 ⑤  ゆうびんきょく 郵便局 ⑥  しょうぼうしょ 消防署

やってみよう！

Q. 1 かけ算の式を見つけよう

④例

8	30	3
7	2	6
5	24	14

せいげん 制限時間内に こ 9個の数を全て使って
かけ算の式を3つ見つけましょう。

- ④例 $6 \times 5 = 30$
 $8 \times 3 = 24$
 $7 \times 2 = 14$

ストップウォッチ
を用意して

①


2	42	4
7	18	9
16	6	4



②

21	2	9
45	6	3
5	7	12

③

6	15	2	56	7
9	8	5	3	63
42	7		8	5
16	9	30	4	6
3	32	7	8	27

レベルアップ!!

答えから考えると

スピードアップできるよ!

次は8つの式を見つけよう。

せいげん
制限時間は 2分

答えは次号で☆