

Go Go Ranger!

2020. 5. 20

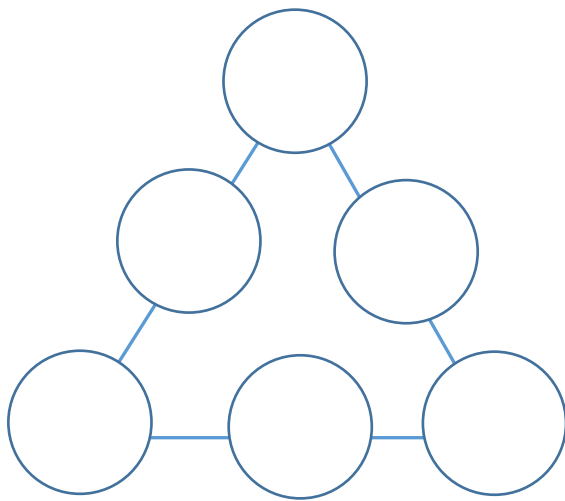
豊中市立野畑小学校 5年

臨時第⑰号

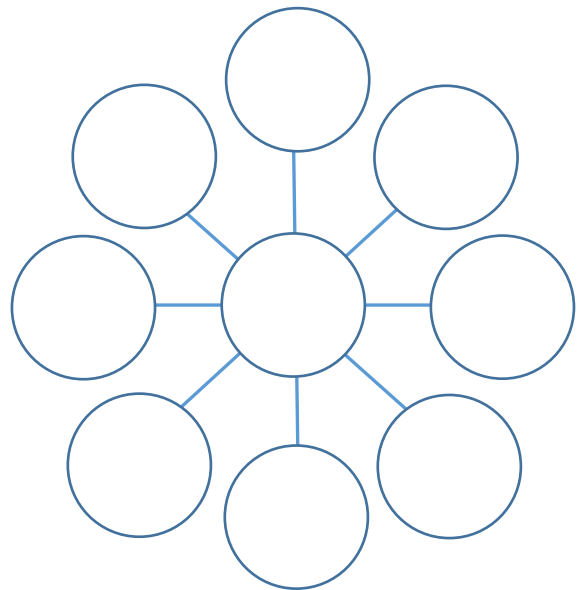
今日は少し肌寒い風が吹いていますね。最近暖かい日が続いていたので、体調をくずさないように気をつけてください。明日、明後日元気なみなさんに会えるのを楽しみに待っています！

さて、今日は『数』を使ったクイズに挑戦してみよう！

①下の図の○の中に、1から6までの整数を1つずつ入れて、それぞれの辺にならんだ3つの整数の和（足し算の答え）がどれも9になるようにしよう！



②下の図の○の中に、1から9までの整数を1つずつ入れて、まっすぐにならんだ3つの整数の和が12になるようにしよう！



③はじめくん、りささん、しほさんの漢字テストが返ってきました。順位は、1位はじめくん、2位りささん、3位しほさんで、1点ずつの差があり、3人の合計点数は246点だったそうです。それぞれの人の点数は、何点でしょうか？

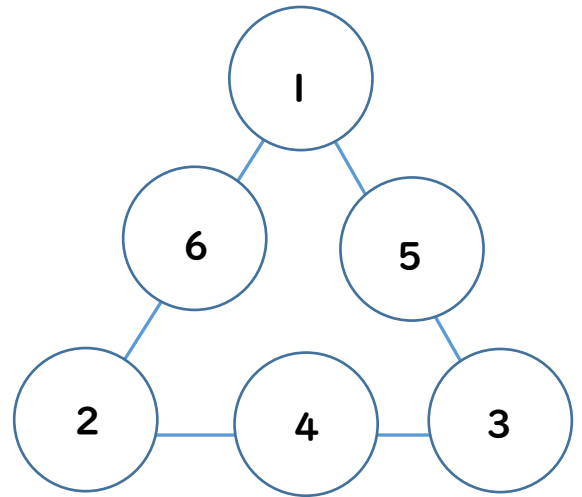


答えは次のページにあるよ♪

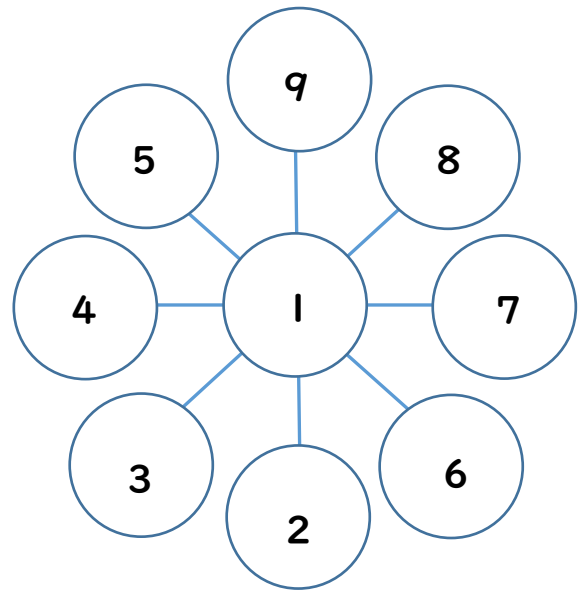
〈答え〉

①正解は1つではありません。

3つの頂点に入る数は、1と2と3と
決まるのですが、その3つの数がどの頂点
に入るかによって、違ってきます。



②正解は1つではありません。なん中に入る
数は1と決まるのですが、周りの数の入りかた
がいろいろあります。



この組み合わせがあっ
ていれば正解です！

9-1-2
8-1-3
7-1-4
6-1-5

③はじめくん 83点

りささん 82点

しほさん 81点