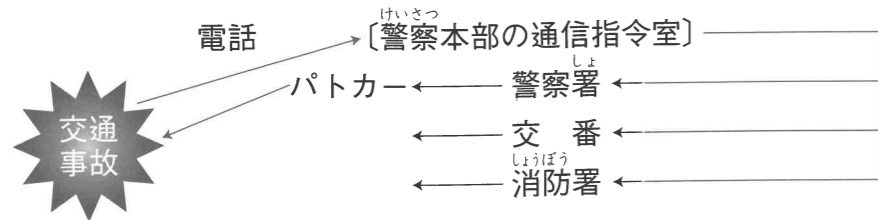


4年の復習 ①

1 次の交通事故のときの図を見て、あとの問いに答えなさい。



- (1) 交通事故のときに、電話連絡するときの電話番号は何番ですか。
[]
- (2) 消防署に連絡するのはなぜですか。正しいものを、次のア～ウから1つ選びなさい。
ア 交通整理をするため。
イ パトカーを出動させるため。
ウ 救急車を出動させるため。
[]
- (3) 警察署が、交通事故を防ぐためにふだん行っている仕事を、次のア～エから2つ選びなさい。
ア ちゅう車いはんの取りしまり。 イ 歩道橋などの工事。
ウ 交通安全教室を開く。 エ 信号機を取りつける工事。
[] []

2 火事や地震のときについて、次の問いに答えなさい。

- (1) 火事のときに、電話連絡するときの電話番号は何番ですか。
[]
- (2) 火事の連絡を受けた消防本部の通信指令室が、消防署以外に連絡するところを、次のア～オから3つ選びなさい。
ア テレビ局 イ 市の水道局 ウ ガス会社 エ 新聞社
オ 電力会社
[] [] []
- (3) 消防署以外に、ふだんは別の仕事をしながら火事のときに消防署と協力して消火にあたる人々がいます。この人々がつくっているしくみを何といいますか。
[]
- (4) 地震などの災害にそなえて、地域や市などで行われる訓練を何といいますか。
[]

チェック & ヒント

1 交通事故

●交通事故を起こしたり、見たりしたときは？



●救急車はどこに置かれて
いるか？



●警察署は、ふだん何を
しているか？



2 火事や地震

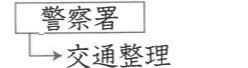
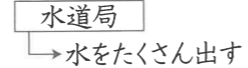
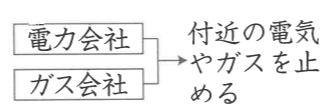
●火事や病気のときは？



●消火にあたるのは？



●消火に協力するのは？



●地震へのそなえ

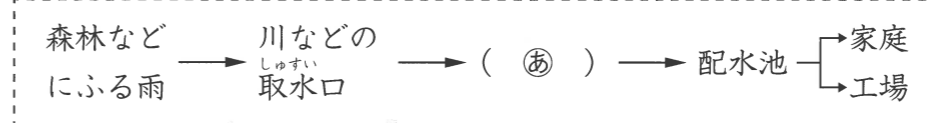
- ・防災訓練
- ・防災計画

4年の復習 ②

1 暮らしとごみについて、次の問いに答えなさい。

- (1) 次の①～④は、どのごみとされますか。あとのア～ウから1つずつ選びなさい。(同じものを2度選んでもかまいません。)
- ① 生ごみ ② 空きかん
③ 新聞紙 ④ こわれたとう器
- ア 燃やせるごみ イ 燃やせないごみ(うめ立てごみ)
ウ 資源ごみ
- ① [] ② [] ③ [] ④ []
- (2) ごみを資源として再び使えるようにすることを何といいますか。カタカナで答えなさい。
[]
- (3) せいそう工場で燃やされたごみのはいや、燃やせないごみは、どのように処理されていますか。正しいものを、次のア～ウから1つ選びなさい。
ア 海や川に流している。
イ れんがなどに加工されている。
ウ うめ立て地にうめられる。
[]

2 暮らしと水について、次の図を見て、あとの問いに答えなさい。



- (1) 図中の(㊸)には、水を飲めるようにきれいにしている施設がなくてはなりません。この施設を何といいますか。
[]
- (2) 森林は、雨をたくわえ、少しずつ流す働きをしています。このことを「緑の[]」といいます。[]にあてはまることばを書きなさい。
[]
- (3) よごれた水は、下水処理場で処理されたあと、どのようになりますか。正しいものを、次のア～ウから1つ選びなさい。
ア 飲み水として再利用している。
イ 川や海に流している。
ウ タンクにたくわえている。
[]

チェック & ヒント

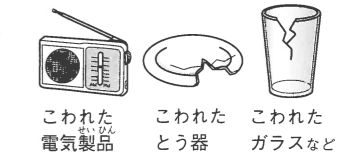
1 暮らしとごみ

[ごみの種類]

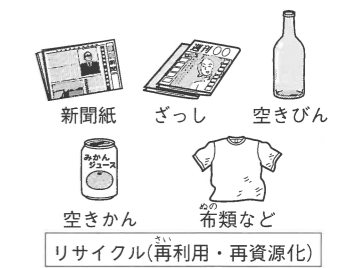
●燃やせるごみ



●燃やせないごみ



●資源ごみ

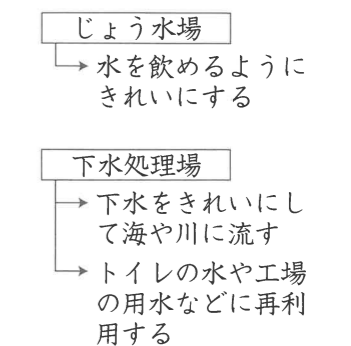


2 暮らしと水

[森林の役割]



[水の処理施設]



4年の復習 3

チェック & ヒント

1 土地の高さについて、右の図を見て、次の問いに答えなさい。

□(1) 図の同じ高さのところを結んだ線を何といいますか。

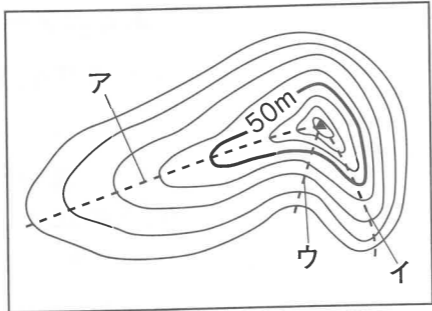
[]

□(2) 図のアとイのうちで、けいしゃの急な方を1つ選びなさい。

[]

□(3) 図のウは、アとイが尾根というのに対して、何といいますか。

[]



2 地図の見方について、右の地図を見て、次の問いに答えなさい。

□(1) 学校から城あとのある山は、どの方向に見えますか。正しいものを、次のア～エから1つ選びなさい。

- ア 北西 イ 南西
ウ 北東 エ 南東

[]

□(2) 城あとのある山の南側のしゃめんは、何に利用されていますか。次のア～エから1つ選びなさい。

- ア かじゅ園 イ 茶畑 ウ 森林 エ 畑

[]

□(3) 学校を出て東の方向に歩き、役場に着くまでの間に見られる建物を、次のア～オから2つ選びなさい。

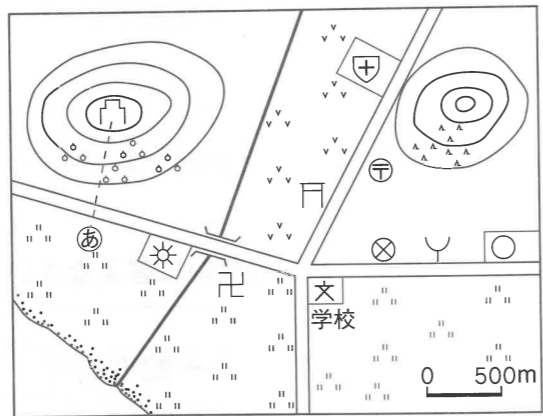
- ア 神社 イ 工場 ウ 警察署
エ 郵便局 オ 消防署

[] []

□(4) 学校から城あとのある山の登り口の④の地点まで、この地図で約3cmあります。実際のきよりを、次のア～エから1つ選びなさい。

- ア 約500m イ 約1000m
ウ 約1500m エ 約3000m

[]



1 土地の高さ

- 等高線…同じ高さのところを結んだ線
 - ・間かくが広い →けいしゃがゆるやか
 - ・間かくがせまい →けいしゃが急
- 尾根…等高線が外の方に出ている
- 谷…等高線が内側にくぼんでいる

2 地図の見方

- 八方位
 - 北西 北 北東
 - 西 東
 - 南西 南 南東
- 縮尺…実際の長さをどのくらいの割合でちぢめたかを示したもの
 - ・5万分の1の地図 →地図上の1cmは、実際は(1×50000)cm
- 地図記号
 - …役場 卍…寺
 - 卍…神社 卍…城あと
 - ⊗…警察署
 - ∨…消防署
 - ☀…工場 ⑤…郵便局
 - ⊕…病院 〃…田
 - ∨∨…畑 〃…茶畑
 - ▲▲…森林(針葉樹林)
 - 。…かじゅ園
 - 📖…図書館 🚲…風車
 - 🏠…老人ホーム
 - 🏛️…博物館・美術館

4年の復習 4

チェック & ヒント

1 日本の地域区分について、右の地図を見て、次の問いに答えなさい。

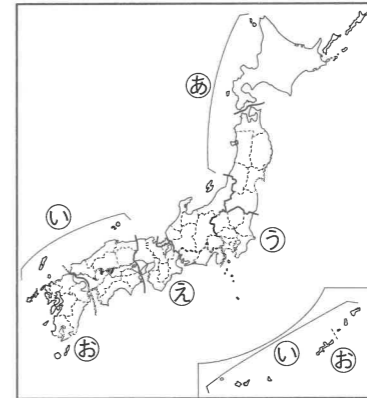
□(1) 日本を3つの地域に分けると、④・⑤は、それぞれ何日本にふくまれますか。

④ []
⑤ []

□(2) 日本を7つの地方区分に分けると、③・④・⑤は、それぞれ何という地方に属しますか。次のア～オから1つずつ選びなさい。

- ア 近畿地方 イ 中部地方 ウ 関東地方
エ 九州地方 オ 東北地方

③ [] ④ [] ⑤ []



2 日本の都道府県について、次の文章を読んで、あとの問いに答えなさい。

日本には、(④)の都道府県があります。それぞれの都道府県の中心となる都市は、都道府県庁所在地になっています。

□(1) 文章中の(④)にあてはまる数字を答えなさい。

[]

□(2) 文章中の 線部について、次の①・②・③は、いずれも県名と県庁所在地名がことになっています。それぞれの県庁所在地名を、あとのア～エから1つずつ選びなさい。

- ① 石川県 ② 群馬県 ③ 兵庫県
ア 仙台市 イ 神戸市 ウ 前橋市 エ 金沢市

① [] ② [] ③ []

□(3) 讃岐うどんと知られている、最も面積の小さい都道府県を答えなさい。

[]

□(4) 海に面していない都道府県を、次のア～エから1つ選びなさい。

- ア 東京都 イ 奈良県
ウ 愛知県 エ 福岡県

[]

1 日本の地域区分

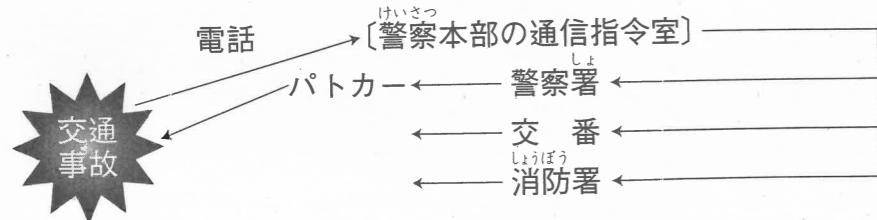
- 2つに分ける
 - 東日本と西日本
- 3つに分ける
 - 北東部…東北日本
 - 中央部…中央日本
 - 南西部…西南日本
- 7つの地方
 - 北海道、東北、関東、中部、近畿、中国・四国、九州
- さまざまな区分
 - ・食生活による区分
 - 東日本の角もち
 - 西日本の丸もち
 - 東日本のうどんだし
 - 西日本のうどんだし

2 日本の都道府県

- 47都道府県
 - …1都 → 東京都
 - 1道 → 北海道
 - 2府 → 京都府、大阪府
- 43県
- 県境
 - …多くは、山や川・海・道路などで決められ、区切られている
- まわりをすべて海でかこまれている都道府県
 - …北海道・沖縄県
- 内陸にあり海に面していない都道府県
 - …栃木県・群馬県・埼玉県・山梨県・長野県・岐阜県・滋賀県・奈良県

4年の復習 ①

1 次の交通事故のときの図を見て、あとの問いに答えなさい。



□(1) 交通事故のときに、電話連絡するときの電話番号は何番ですか。

[110番]

□(2) 消防署に連絡するのはなぜですか。正しいものを、次のア～ウから1つ選びなさい。

- ア 交通整理をするため。
- イ パトカーを出動させるため。
- ウ 救急車を出動させるため。

[ウ]

□(3) 警察署が、交通事故を防ぐためにふだん行っている仕事を、次のア～エから2つ選びなさい。

- ア ちゅう車いはんの取りしまり。
- イ 歩道橋などの工事。
- ウ 交通安全教室を開く。
- エ 信号機を取りつける工事。

[ア] [ウ]

2 火事や地震のときについて、次の問いに答えなさい。

□(1) 火事のときに、電話連絡するときの電話番号は何番ですか。

[119番]

□(2) 火事の連絡を受けた消防本部の通信指令室が、消防署以外に連絡するところを、次のア～オから3つ選びなさい。

- ア テレビ局
- イ 市の水道局
- ウ ガス会社
- エ 新聞社
- オ 電力会社

[イ] [ウ] [オ]

□(3) 消防署以外に、ふだんは別の仕事をしながら火事のときに消防署と協力して消火にあたる人々がいます。この人々がやっているしくみを何といいますか。

[消防団]

□(4) 地震などの災害にそなえて、地域や市などで行われる訓練を何といいますか。

[消防訓練]

チェック & ヒント

1 交通事故

●交通事故を起こしたり、見たりしたときは？



●救急車はどこに置かれてあるか？



●警察署は、ふだん何をしているか？



●交通安全教室



2 火事や地震

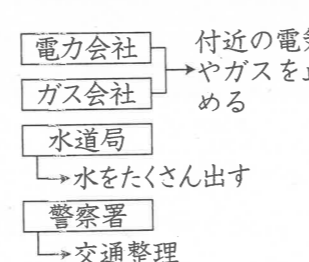
●火事や病気のときは？



●消火にあたるのは？



●消火に協力するのは？



●地震へのそなえ

- ・防災訓練
- ・防災計画

4年の復習 ②

チェック & ヒント

1 暮らしとごみについて、次の問いに答えなさい。

□(1) 次の①～④は、どのごみとされますか。あとのア～ウから1つずつ選びなさい。(同じものを2度選んでもかまいません。)

- ① 生ごみ
- ② 空きかん
- ③ 新聞紙
- ④ こわれたとう器

ア 燃やせるごみ イ 燃やせないごみ(うめ立てごみ)
ウ 資源ごみ

① [ア] ② [ウ] ③ [ウ] ④ [イ]

□(2) ごみを資源として再び使えるようにすることを何といいますか。カタカナで答えなさい。

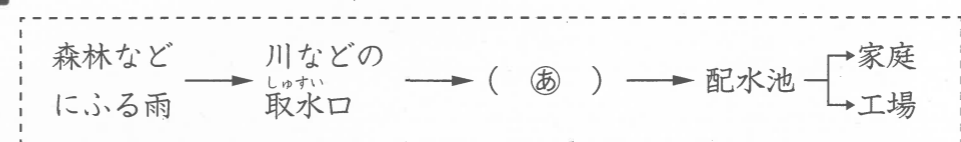
[リサイクル]

□(3) せいそう工場で燃やされたごみのはいや、燃やせないごみは、どのように処理されていますか。正しいものを、次のア～ウから1つ選びなさい。

- ア 海や川に流している。
- イ れんがなどに加工されている。
- ウ うめ立て地にうめられる。

[ウ]

2 暮らしと水について、次の図を見て、あとの問いに答えなさい。



□(1) 図中の(㊸)には、水を飲めるようにきれいにしている施設があたりはまります。この施設を何といいますか。

[浄水場]

□(2) 森林は、雨をたくわえ、少しずつ流す働きをしています。このことを「緑の□」といいます。□にあてはまることばを書きなさい。

[ダム]

□(3) よごれた水は、下水処理場で処理されたあと、どのようになりますか。正しいものを、次のア～ウから1つ選びなさい。

- ア 飲み水として再利用している。
- イ 川や海に流している。
- ウ タンクにたくわえている。

[イ]

1 暮らしとごみ

[ごみの種類]

●燃やせるごみ



●燃やせないごみ



●資源ごみ



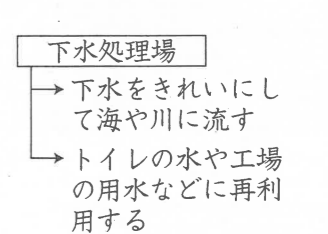
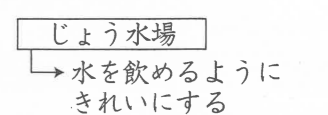
リサイクル(再利用・再資源化)

2 暮らしと水

[森林の役割]



[水の処理施設]



4年の復習 3

チェック & ヒント

1 土地の高さについて、右の図を見て、次の問いに答えなさい。

□(1) 図の同じ高さのところを結んだ線を何といいますか。

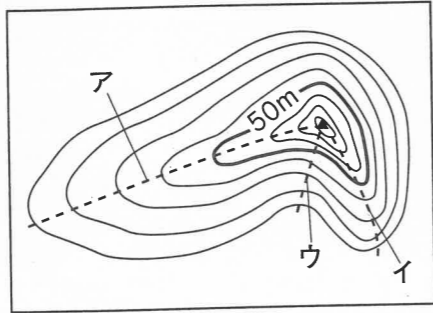
[等高線]

□(2) 図のアとイのうちで、けいしゃの急な方を1つ選びなさい。

[イ]

□(3) 図のウは、アとイが尾根というのに対して、何といいますか。

[谷]

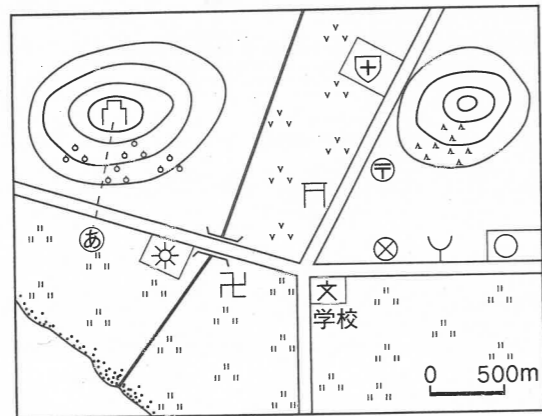


2 地図の見方について、右の地図を見て、次の問いに答えなさい。

□(1) 学校から城あとのある山は、どの方向に見えますか。正しいものを、次のア～エから1つ選びなさい。

ア 北西 イ 南西
ウ 北東 エ 南東

[ア]



□(2) 城あとのある山の南側のしゃめんは、何に利用されていますか。次のア～エから1つ選びなさい。

ア かじゅ園 イ 茶畑 ウ 森林 エ 畑

[ア]

□(3) 学校を出て東の方向に歩き、役場に着くまでの間に見られる建物を、次のア～オから2つ選びなさい。

ア 神社 イ 工場 ウ 警察署
エ 郵便局 オ 消防署

[ウ] [オ]

□(4) 学校から城あとのある山の登り口の④の地点まで、この地図で約3cmあります。実際のきよりを、次のア～エから1つ選びなさい。

ア 約500m イ 約1000m $500\text{m}/\text{cm} \times 3\text{cm} = 1500\text{m}$
ウ 約1500m エ 約3000m

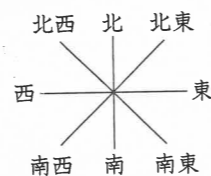
[ウ]

1 土地の高さ

- 等高線…同じ高さのところを結んだ線
 - ・間かくが広い → けいしゃがゆるやか
 - ・間かくがせまい → けいしゃが急
- 尾根…等高線が外の方に突出している
- 谷…等高線が内側にくぼんでいる

2 地図の見方

●八方位



- 縮尺…実際の長さをどのくらいの割合でちぢめたかを示したもの
 - ・5万分の1の地図 → 地図上の1cmは、実際は(1×50000)cm

●地図記号

- …役場 卍…寺
- 卍…神社 ㊦…城あと
- ⊗…警察署
- ㇿ…消防署
- ☀…工場 ㊤…郵便局
- ㊦…病院 〰…田
- ∨…畑 ㇿ…茶畑
- ▲…森林(針葉樹林)
- ⊙…かじゅ園
- ㊦…図書館 ㇿ…風車
- ㊦…老人ホーム
- ㊦…博物館・美術館

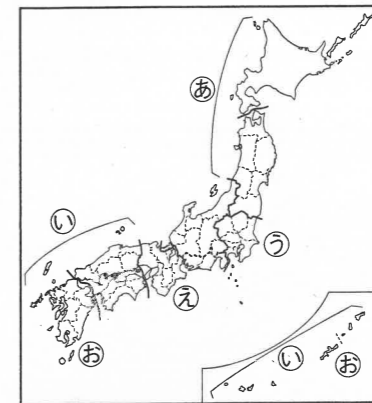
4年の復習 4

チェック & ヒント

1 日本の地域区分について、右の地図を見て、次の問いに答えなさい。

□(1) 日本を3つの地域に分けると、㊦・㊧は、それぞれ何日本にふくまれますか。

㊦ [東北日本]
㊧ [西南日本]



□(2) 日本を7つの地方区分に分けると、㊩・㊪・㊫は、それぞれ何という地方に属しますか。次のア～オから1つずつ選びなさい。

ア 近畿地方 イ 中部地方 ウ 関東地方
エ 九州地方 オ 東北地方

㊩ [ウ] ㊪ [ア] ㊫ [エ]

2 日本の都道府県について、次の文章を読んで、あとの問いに答えなさい。

日本には、(㊬)の都道府県があります。それぞれの都道府県の中心となる都市は、都道府県庁所在地になっています。

□(1) 文章中の(㊬)にあてはまる数字を答えなさい。

[47]

□(2) 文章中の 線部について、次の㊭・㊮・㊯は、いずれも県名と県庁所在地名がことになっています。それぞれの県庁所在地名を、あとのア～エから1つずつ選びなさい。

㊭ 石川県 ㊮ 群馬県 ㊯ 兵庫県
ア 仙台市 イ 神戸市 ウ 前橋市 エ 金沢市

㊭ [エ] ㊮ [ウ] ㊯ [イ]

□(3) 讃岐うどんと知られている、最も面積の小さい都道府県を答えなさい。

[香川県]

□(4) 海に面していない都道府県を、次のア～エから1つ選びなさい。

ア 東京都 イ 奈良県
ウ 愛知県 エ 福岡県

[イ]

1 日本の地域区分

- 2つに分ける
 - 東日本と西日本
- 3つに分ける
 - 北東部…東北日本
 - 中央部…中央日本
 - 南西部…西南日本
- 7つの地方
 - 北海道, 東北, 関東, 中部, 近畿, 中国・四国, 九州
- さまざまな区分
 - ・食生活による区分
 - 東日本の角もち
 - 西日本の丸もち
 - 東日本のうどんだし
 - 西日本のうどんだし

2 日本の都道府県

- 47都道府県
 - …1都 → 東京都
 - 1道 → 北海道
 - 2府 → 京都府, 大阪府
- 43県
- 県境
 - …多くは、山や川・海・道路などで決められ、区切られている
- まわりをすべて海でかこまれている都道府県
 - …北海道・沖縄県
- 内陸にあり海に面していない都道府県
 - …栃木県・群馬県・埼玉県・山梨県・長野県・岐阜県・滋賀県・奈良県