


がくねん

低

なんじなんぷん ①

ねん くみ なまえ

1 じこくを よみましょう。




①みじかい はりが () と () の あいだを さしているの
 () じ です。

②ながい はりが さしている すうじは () なので、() ふんです。

③この じこくは () じ () ふん) です。

2 じこくを よみましょう。



①みじかい はりが () と () の あいだを さしているの
 () じ です。

②ながい はりが さしている すうじは () なので、() ふんです。

③この じこくは () じ () ふん) です。


がくねん

低

なんじなんぷん ①

ねん くみ なまえ

1 じこくを よみましょう。



ながいはりは、5とびで
数えるんだね。

①みじかいはりが (4) と (5) の あいだを さしているの
で (4) じ です。


②ながいはりが さしている すうじは (1) なので、(5) ふんです。

③この じこくは (4 じ 5 ふん) です。

2 じこくを よみましょう。

2つの うちの ちいさい

ほうを よむんだね。



①みじかいはりが (4) と (5) の あいだを さしているの
で (4) じ です。

②ながいはりが さしている すうじは (9) なので、(45) ふんです。

③この じこくは (4 じ 45 ふん) です。

がくねん

低

なんじなんぷん ②

ねん くみ なまえ


1 とけいの はりを かきましよう。

また、() に すうじを かきましよう。

(1) 8じ15ふん

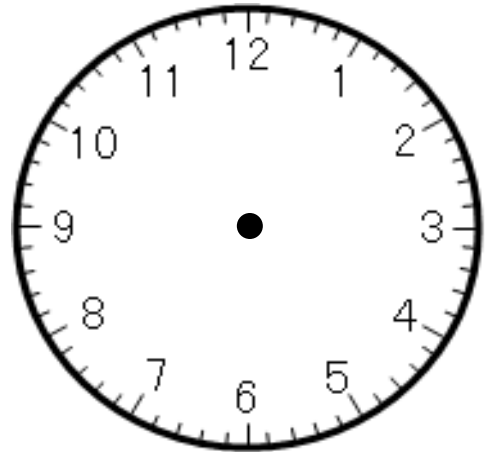
①みじかい はりは () と () の あいだを さしている
ので () じ です。

②ながい はりは () を さします。

③みじかい はり 

ながい はり 


をかきこみましよう。



(2) 10じ35ふん

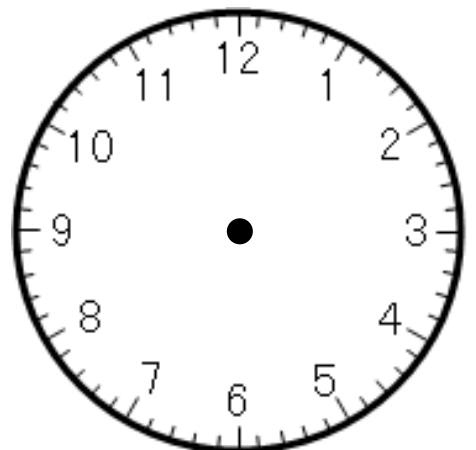
①みじかい はりは () と () の あいだを さしている
ので () じ です。

②ながい はりは () を さします。

③みじかい はり 

ながい はり 

をかきこみましよう。



がくねん

低

なんじなんぷん ②

ねん くみ なまえ


1 とけいの はりを かきましょう。

また、() に すうじを かきましょう。

(1) 8じ15ふん

①みじかい はりは (8) と (9) の あいだを さしている
ので (8) じ です。

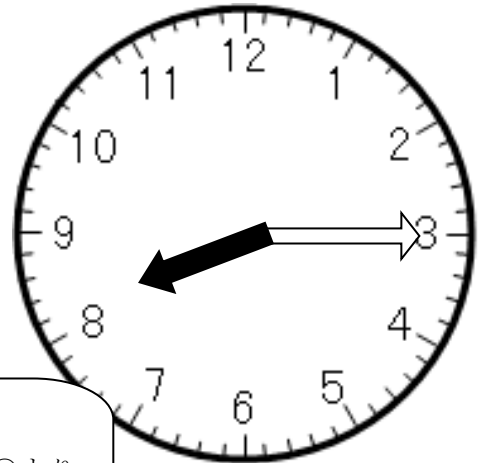
②ながい はりは (3) を さします。

③みじかい はり 

ながい はり 

をかきこみましょう。


○じ△ふんの ときは ○より
1つ おおきい かずとの あ
いだを さします。



(2) 10じ35ふん


①みじかい はりは (10) と (11) の あいだを さしている
ので (10) じ です。

②ながい はりは (7) を さします。

③みじかい はり 

ながい はり 

をかきこみましょう。




がくねん
低


なんじなんぷん ③

ねん くみ なまえ

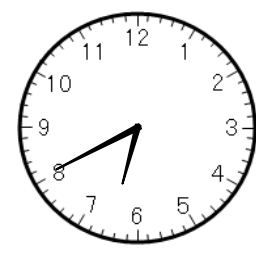
1 ①とけいを よんで じこくを かきこみましょう。




()



()




()



()



おきたじこく
()



とうこう
()




あさごはん
()

②えと じこくを せんで むすびましょう。
③えの したに じゅんばんを かきましょう。

ぼくは 7じ40ぷんに いえを でて、
8じ5ふんに がっこうに ついて ……

2 じぶんが おきてから したことを なんじなんぷんを
つかって せつめいしましょう。




がくねん

低


なんじなんぷん ③

ねん くみ なまえ


1 ①とけいを よんで じこくを かきこみましょう。




(7じ10ふん)



(4じ15ふん)



(6じ40ふん)



(7じ55ふん)



おきたじこく
(1)



とうこう
(3)



あさごはん
(2)

- ②えと じこくを せんで むすびましょう。
③えの したに じゅんばんを かきましょう。

ぼくは 7じ40ふんに いえを でて、
8じ5ふんに がっこうに ついて …

2 じぶんが おきてから したことを なんじなんぷんを
つかって せつめいしましょう。

例)・7じに おきて、7じ20ふんに あさごはんを
たべて、8じに いえを でした。

・7じ10ふんに あさごはんを たべて、 8じ5ふんに
がっこうに つきました。8じはんからべんきょうを はじめました。

・9じはんから さんすうの べんきょうを して、12じ25ふんから きゅうしょくをたべました。

