

学 年  
2年ふく習

ひき算のひっ算 (3) ①

年 組 名前 \_\_\_\_\_

① ひくと8になる2つのかずを さがします。どれとどれをえらべばいいですか。

4            18            7            15            2            11

と

② ひくと42になる2つのかずを さがします。どれとどれをえらべばいいですか。

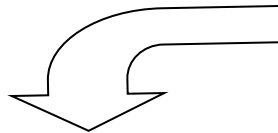
6            17            35            42            59            85

と

③ ひくと29になる2つのかずを さがします。どれとどれをえらべばいいですか。

8            17            28            36            44            57

と



④ ③は、どのようにして、えらびましたか？ そのわけを かきましょう。





学 年  
2年ふく習


ひき算のひっ算 (3) ②

年 組 名 前 \_\_\_\_\_


1 次のひっ算で、やぶれてしまったところのかずをかきましょう。

$$\begin{array}{r} 64 \\ - 42 \\ \hline 2 \end{array}$$



$$\begin{array}{r} 82 \\ - 38 \\ \hline \end{array}$$



$$\begin{array}{r} 57 \\ - 3 \end{array}$$


$$\begin{array}{r} 27 \end{array}$$


$$\begin{array}{r} 7 \end{array}$$



$$\begin{array}{r} - 47 \\ \hline 25 \end{array}$$

$$\begin{array}{r} 9 \end{array}$$


$$\begin{array}{r} - \end{array}$$


$$\begin{array}{r} 2 \\ \hline 56 \end{array}$$



$$\begin{array}{r} 3 \\ - 2 \end{array}$$


$$\begin{array}{r} \hline 58 \end{array}$$

学 年  
2年ふく習

ひき算のひっ算 (3) ②

年 組 名前

1 次のひっ算で、やぶれてしまったところのかずをかきましょう。

$$\begin{array}{r} 64 \\ - 42 \\ \hline 2 \end{array}$$

2

$$\begin{array}{r} 57 \\ - 30 \\ \hline 27 \end{array}$$

$$\begin{array}{r} 98 \\ - 42 \\ \hline 56 \end{array}$$

くり下がりが  
あるかないかを  
かんがえよう。

$$\begin{array}{r} 82 \\ - 38 \\ \hline 44 \end{array}$$

$$\begin{array}{r} 72 \\ - 47 \\ \hline 25 \end{array}$$

$$\begin{array}{r} 83 \\ - 25 \\ \hline 58 \end{array}$$