

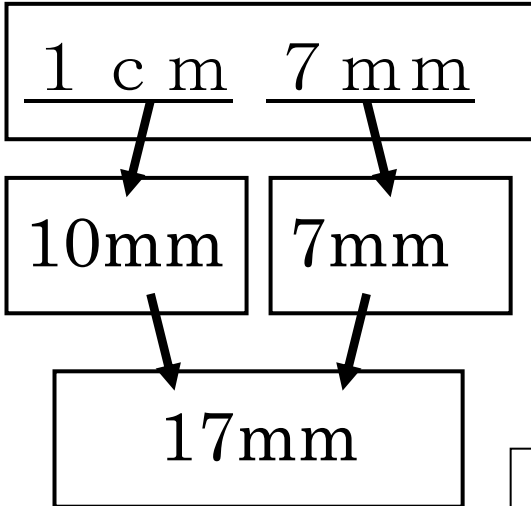
① 学年 2年ふく習	<h2 style="margin: 0;">長さ (2) ④</h2>
---------------	--------------------------------------

年 組 名前 _____

① 1 cm を mm になおしましょう。

①

1 cm 7 mm が、何 mm かを せつめいします。下の、() にことばを書きましょう。



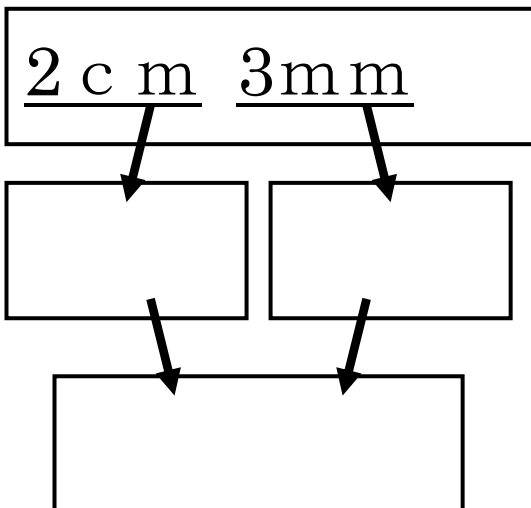
1 cm は () です。
 () と、
 7mm をたすと、
 ()
 になります。

ヒント 10 mm 17mm

ここから
ことばをえらぼう。

②

① を さんこうにして、2 cm 3mm が何 mm か せつめいしましょう。



学 年

2年ふく習

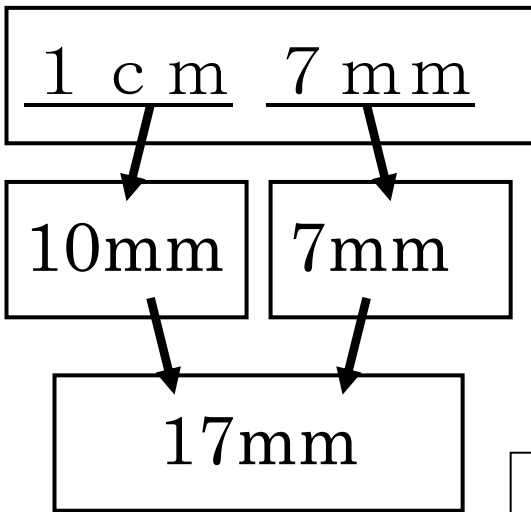
長さ (2) ④

年 組 名 前

1 c m を m m に な お し ま し ょ う 。

①

1 c m 7 m m が、何 m m か を せ つ め し ま す。下 の、() に こ と ば を 書 き ま し ょ う。



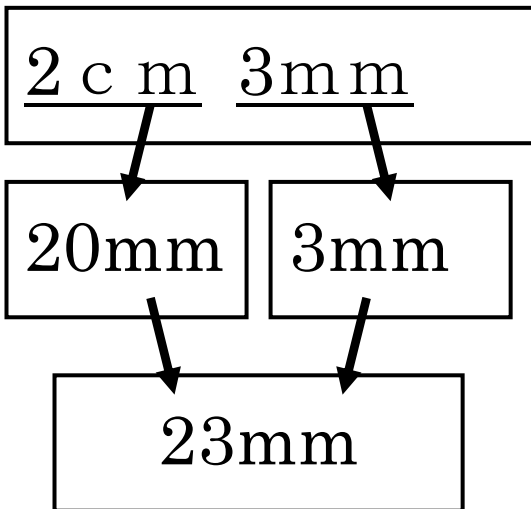
1 c m は (1 0 m m) です。
 (1 0 m m) と、
 7 m m を た す と、
 (1 7 m m)
 に な り ま す。

ヒント 10mm 17mm

ここから
ことばをえらぼう。

②

① を さ ん こ う に し て、2 c m 3 m m が 何 m m か せ つ め い し ま し ょ う。



2 c m は (2 0 m m) です。
 (2 0 m m) と、
 3 m m を た す と、
 (2 3 m m)
 に な り ま す。