

【小学校算数・ワークブック】

学 年
2年ふく習

ひき算のひっ算 (2) ① (くりさがり①)

年 組 名 前

1 125-6の計算について、お金の計算と、ひっ算のしかたが合うものをえらんで線でむすびましょう。

125-6の
けい算をします。

5円から6円は、
ひけません。

10円玉を1円玉に
かえてもらいました。

6円をひきます。

のこったのは、ぜんぶで
() 円です。

百	十	一
1	2 ¹	5 ¹⁰
-		6
		9

百	十	一
1	2 ¹	5 ¹⁰
-		6

百	十	一
1	2	5
-		6

百	十	一
1	2 ¹	5 ¹⁰
-		6
1	1	9

学 年
2年ふく習

ひき算のひっ算 (2) ① (くりさがり①)

年 組 名 前 _____

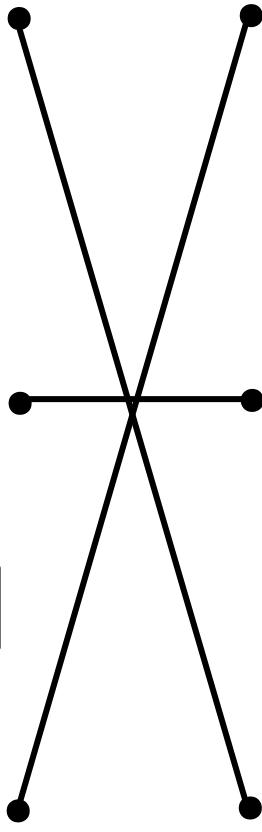
1 125-6の計算について、お金の計算と、ひっ算のしかたが合うものをえらんで線でむすびましょう。

125-6のけい算をします。

5円から6円は、ひけません。

10円玉を1円玉にかえてもらいました。

6円をひきます。



百	十	一
1	2 ¹	5 ¹⁰
-		6
		9

百	十	一
1	2 ¹	5 ¹⁰
-		6

百	十	一
1	2	5
-		6

百	十	一
1	2 ¹	5 ¹⁰
-		6
1	1	9

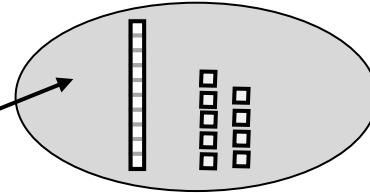
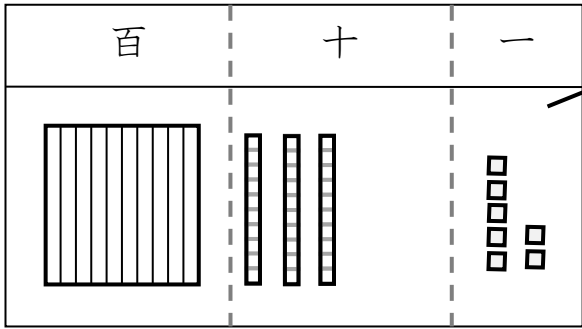
のこったのは、ぜんぶで () 円です。

学 年
2年ふく習


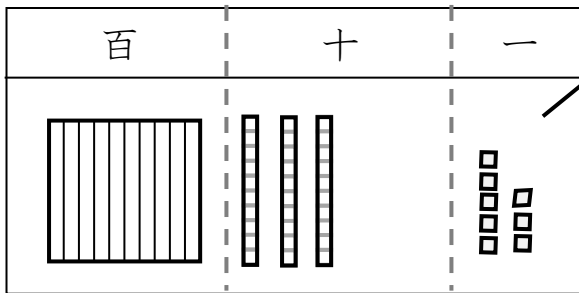
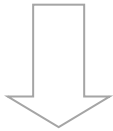
ひき算のひっ算 (2) ② (くりさがり②)

年 組 名 前 _____

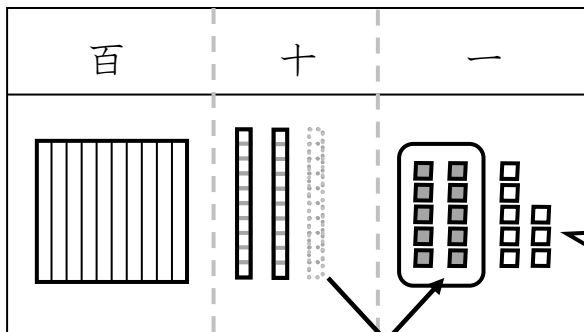
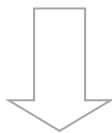
138-19の計算をしています。タイル図を見ながら、かっこの中に正しいせつ明を書きいれましょう。



138-19の計算をします。

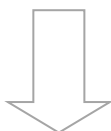


まず、一のくらいから9をひきます。
でも、8から9はひけません。



だから、

()

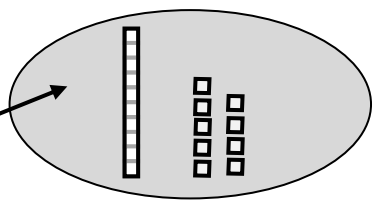
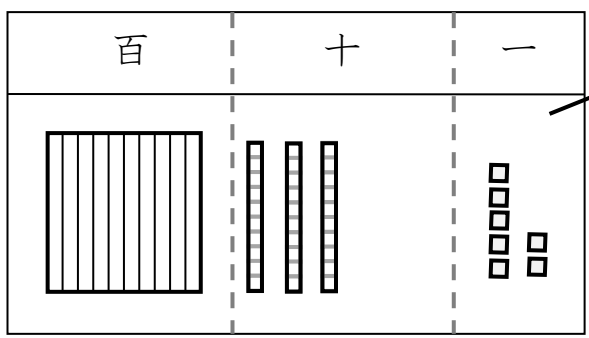


学 年
2年ふく習

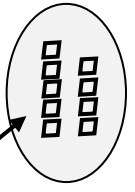
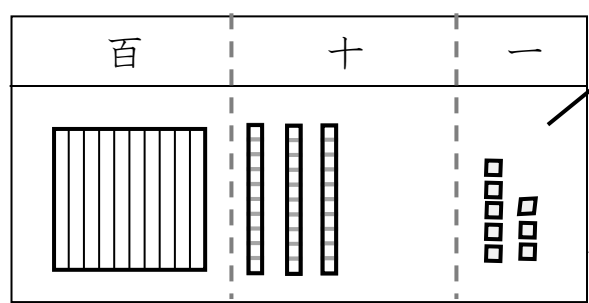
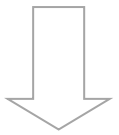
ひき算のひっ算 (2) ② (くりさがり②)

年 組 名 前 _____

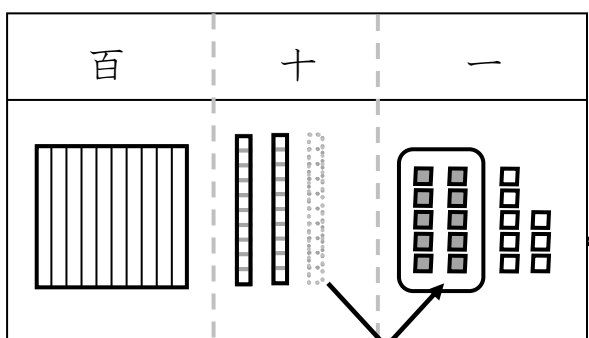
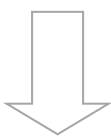
138-19の計算をしています。タイル図を見ながら、かっこの中に正しいせつ明を書きいれましょう。



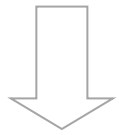
138-19の計算をします。

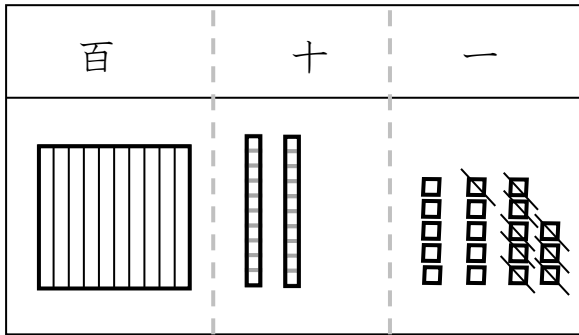


まず、一のくらいから9をひきます。
でも、8から9はひけません。

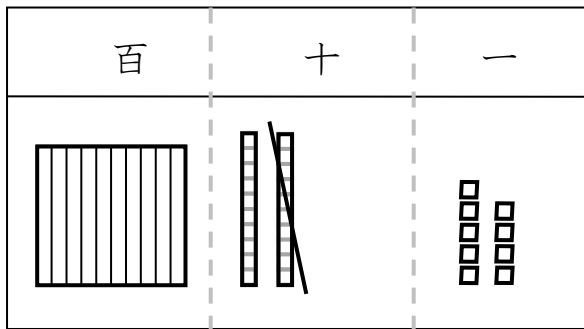
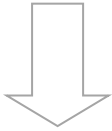


だから、
十のくらいから、10かりてきます。

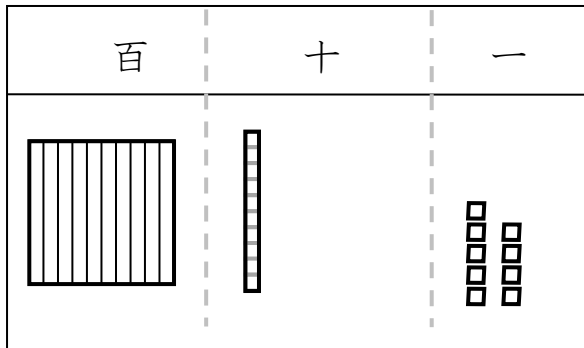
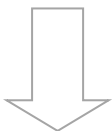




9をひきます。



次に、十のくらいから1をひきます。



だから、
答えは **119** です。

上のタイル図を見て、
計算のじゅんじょを考えな
がら、ひっ算をしてみま
しょう。

