

学 年

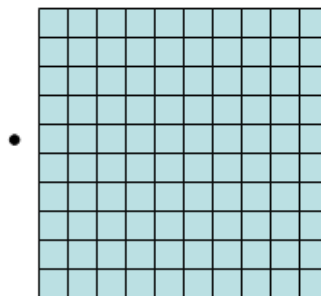
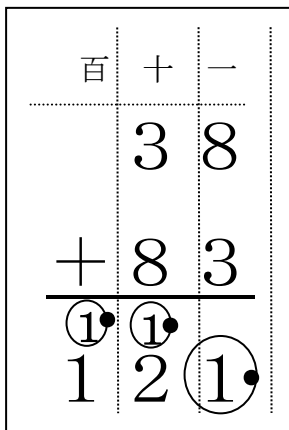
2年復習

たし算のひっ算④ (くりあがりの1の意味)

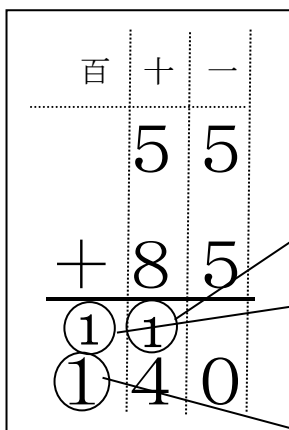
ねん くみ 名まえ

1 ひっ算にかいてある、数字について考えましょう。

(1) $38 + 85$ のひっ算の計算をすると、したのようになります。ひっ算の中にある、○のついた1が、どのタイルと同じか、線でむすびましょう。



(2) 上の もんだいを さんこうにして ○のついた1が、それぞれ何をあらわすか、数字でかきましょう。



学 年
2年復習



たし算のひっ算④ (くりがりの1の意味)

年 くみ 名まえ

1 ひっ算にかいてある、数字について考えましょう。

(1) $38 + 85$ のひっ算の計算をすると、したのようになります。ひっ算の中にある、○のついた1が、どのタイルと同じか、線でむすびましょう。

百	+	-	
	3	8	
+	8	3	
①	①		
1	2	①	

(2) 上の もんだいを さんこうにして ○のついた1が、それぞれ何をあらわすか、数字でかきましょう。

百	+	-	
	5	5	
+	8	5	
①	①		
①	4	0	

1 0

100

100