

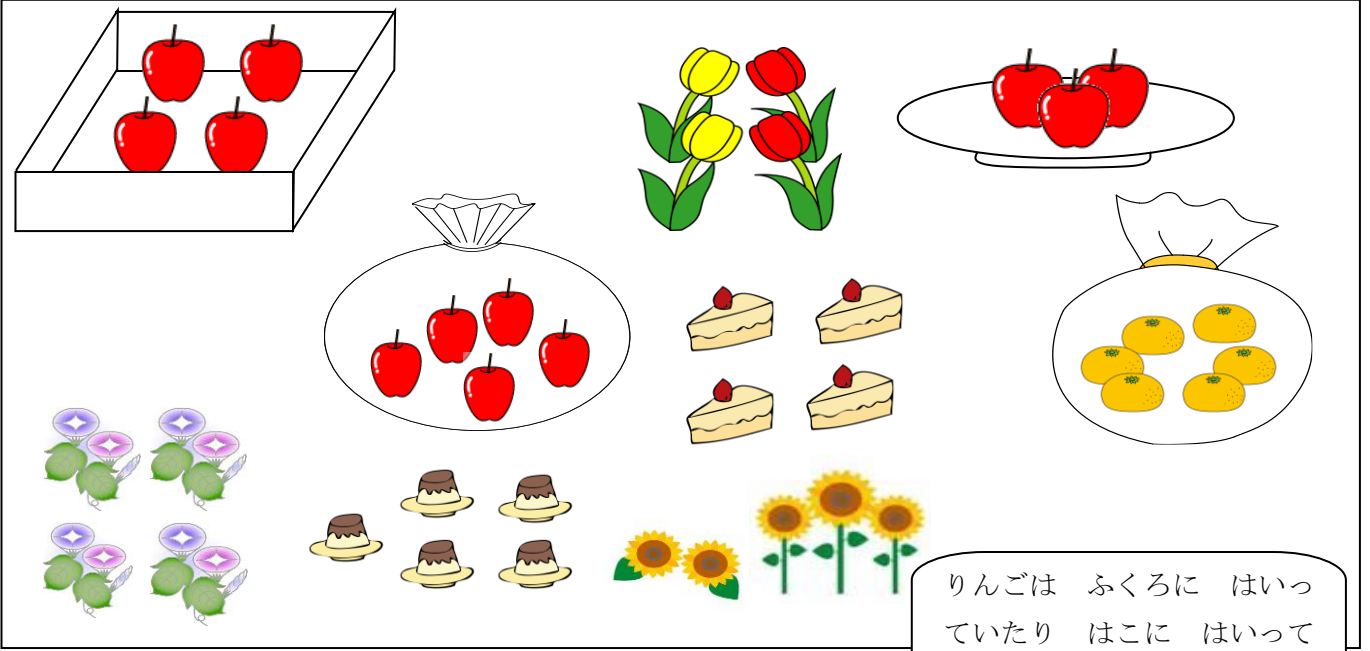
ふくしゅう

1ねん



たしざん (3) ①

ねん くみ なまえ

1 えをみて こたえが 10より おおきく なる おはなしを 2つ つくりましょう。



りんごは ふくろに はいっ
ていたり はこに はいっ
ていたり しているね。




ふくしゅう
1ねん

たしざん (3) ①

ねん くみ なまえ

1 えをみて こたえが 10より おおきく なる おはなしを 2つ つくりましょう。



りんごは ふくろに はいっ
ていたり はこに はいっ
ていたり しているね。

例) アサガオが 8ほん、ひまわりが 5ほん あります。はなは
あわせて なんぼんでしょう。


ふくろに りんごが 5こ、みかんが 6こ はいっています。くだものは あわせて
なんこ あるでしょう。

りんごが ふくろに 5こ、はこに 4こ、おさらには 3こ あります。ぜんぶで
なんこ あるでしょう。

など

3くちの たしざんの おはなしも
つくれます。

おなじ しゅるいの
もので たすことが
できます。



ふくしゅう

1ねん

たしざん (3) ②

ねん くみ なまえ

1 くりあがりの たしざんの おはなしに なるように なおしましょう。


(1) なおす ところに せんを ひいて したに かきなおしましょう。

(2) なおしたら しきを かいて けいさんを しましょう。

●●●●●●●●
○○○○○○○○○
ちがいは 2つ
だけど・・・

① あかい はなが 6ほん、 しろい はなが 8ほん あります。

ちがいは なんぼんでしょう。



しき)

こたえ _____

② えんぴつが 7ほん あります。 あたらしく 2ほん かいました。

えんぴつは ぜんぶで なんぼんに なりましたか。

しき)

こたえ _____

③ こうえんで 9にんの こどもが おにごっこを しています。 4にん かえりました。

こどもは なんにんに なりましたか。

しき)

こたえ _____

ふくしゅう

1ねん

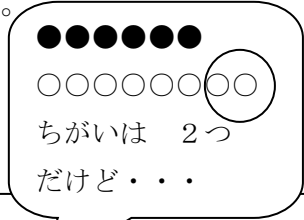
たしざん (3) ②

ねん くみ なまえ

1 くりあがりの たしざんの おはなしに なるように なおしましょう。

(1) なおす ところに せんを ひいて したに かきなおしましょう。

(2) なおしたら しきを かいて けいさんを しましょう。




① あかい はなが 6ほん、 しろい はなが 8ほん あります。

ちがいは なんぼんでしょう。

あわせて

ぜんぶで など

しき) $6 + 8 = 14$



こたえ 14 ほん

② 例) えんぴつが 7ほん あります。 あたらしく 2ほん かいました。

えんぴつは ぜんぶで なんぼんに なりましたか。

くりあがりがあるように すうじを かえましょう。 どちらをかえても いいです。

しき) 例) $7 + 5 = 12$

こたえ 12 ほん

③ こうえんで 9にんの こどもが おにごっこを しています。 4にん かえりました。

ふえました

こどもは なんにんに なりましたか。

きました など

しき) $9 + 4 = 13$

こたえ 13 にん

ふくしゅう
1ねん

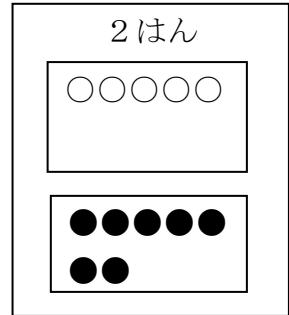
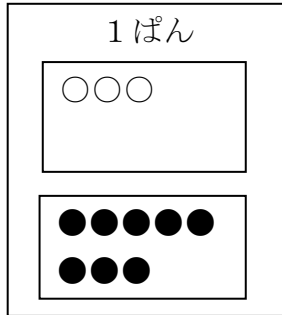
たしざん (3) ③

ねん くみ なまえ

1 1ぱんと 2はんで ボールすくいゲームを しました。

1ぱんは しろ(○)を 3こ、
あか(●)を 8こ すくいました。

2はんは しろ(○)を 5こ、
あか(●)を 7こ すくいました。



れい) 1ぱんの ボールは なんこでしょう。

1ぱん	2はん
○○○	○○○○○
●●●●●●●●	●●●●●●●

しき 3 + 8 = 11

こたえ 11こ

① 2はんの ボールは なんこでしょう。

1ぱん	2はん
○○○	○○○○○
●●●●●●●●	●●●●●●●

しき

こたえ

② 1ぱんと 2ぱんを あわせて、
しろは なんこでしょう。

1ぱん	2はん
○○○	○○○○○
●●●●●●●●	●●●●●●●

しき

こたえ

③ 1ぱんと 2ぱんを あわせて、
あかは なんこでしょう。

1ぱん	2はん
○○○	○○○○○
●●●●●●●●	●●●●●●●

しき

こたえ

ふくしゅう

1ねん

たしざん (3) ③

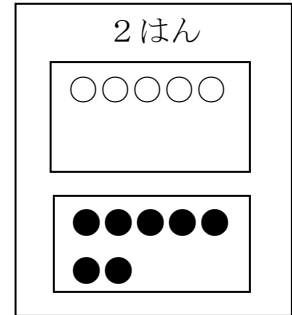
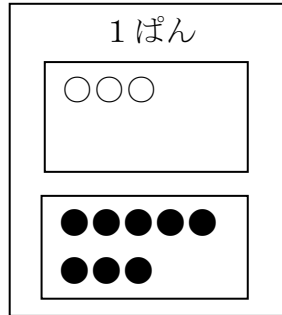

ねん くみ なまえ

1 1ぱんと 2はんで ボールすくいゲームを しました。

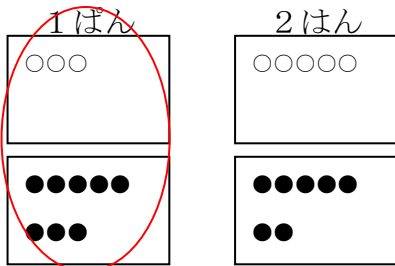
1ぱんは しろ(○)を 3こ、
あか(●)を 8こ すくいました。

2はんは しろ(○)を 5こ、
あか(●)を 7こ すくいました。

まず まるで
かこんでみよう。



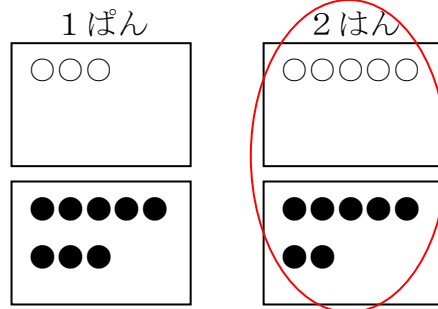
れい) 1ぱんの ボールは なんこでしょう。



しき $3 + 8 = 11$

こたえ 11こ

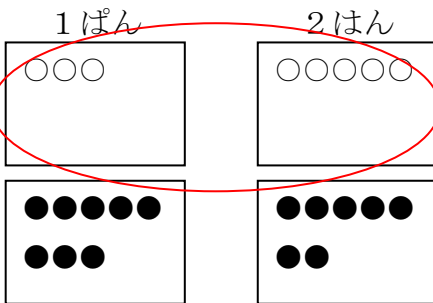
① 2はんの ボールは なんこでしょう。



しき $5 + 7 = 12$

こたえ 12こ

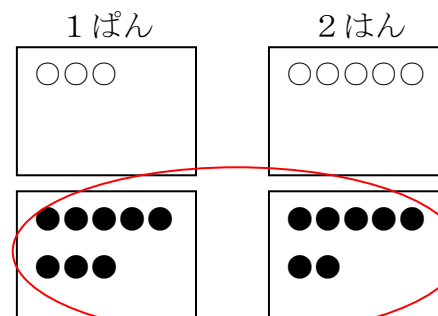
② 1ぱんと 2ぱんを あわせて、
しろは なんこでしょう。



しき $3 + 5 = 8$

こたえ 8こ

③ 1ぱんと 2ぱんを あわせて、
あかは なんこでしょう。



しき $8 + 7 = 15$

こたえ 15こ

ふくしゅう
1ねん

たしざん (3) ④

ねん くみ なまえ

- 1 しきが $8+5$ になる もんだいを えらんで □に ○を かきましょう。
 ならない ものには ×を かきましょう。

①

じゅんぺいさんは おりがみを 8まいもっています。しゅんすけさんから 5まい もらいました。じゅんぺいさんは ぜんぶで なんまい おりがみをもっているでしょう。

②

きょうしつに しろの チョークが 8ほん、きいろの チョークが 5ほん あります。ちがいは なんほんでしょう。

③

なかにわに あかい チューリップが 5ほん きいろい チューリップが 8ほん さいています。チューリップは あわせて なんほん さいているでしょう。

④

なつきさんは えんぴつを 8ほん けしごむを 3つ もっています。きょう えんぴつを 5ほん かいしました。なつきさんの えんぴつは なんほんに なりましたか。

- 2 1で ×を かいした わけを かきましょう。

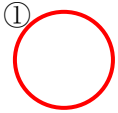
① ふくしゅう

1ねん

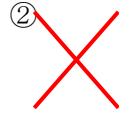
たしざん (3) ④

ねん くみ なまえ


- 1 しきが $8+5$ になる もんだいを えらんで □に ○を かきましょう。
 ならない ものには ×を かきましょう。



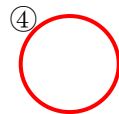
じゅんぺいさんは おりがみを 8まいもっています。しゅんすけさんから 5まい もらいました。じゅんぺいさんは ぜんぶで なんまい おりがみをもっているでしょう。



きょうしつに しろの チョークが 8ほん、きいろの チョークが 5ほん あります。ちがいは なんほんでしょう。



なかにわに あかい チューリップが 5ほん きいろい チューリップが 8ほん さいています。チューリップは あわせて なんほん さいているでしょう。



えんぴつとは べつなので きをつけよう。

なつきさんは えんぴつを 8ほん けしごむを 3つ もっています。きょう えんぴつを 5ほん かいました。なつきさんの えんぴつは なんほんに なりましたか。

- 2 1で ×を かいた わけを かきましょう。

例)

- ・ ちがいは なんほん でしょうだと ひきざんになるから。
- ・ ちがいは $8-5$ で 3ほん になるから。

など