



ふくしゅう	<h1>ながさ ①</h1>
1ねん	


ねん くみ なまえ

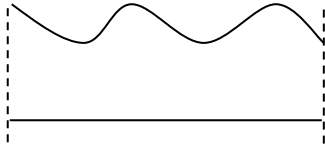
1

(1) どちらが ながいかな。ながい ほうに ○を つけましょう。

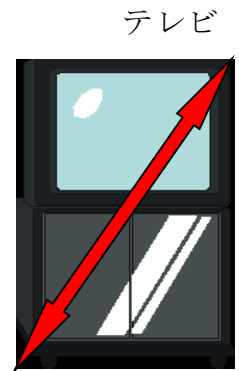


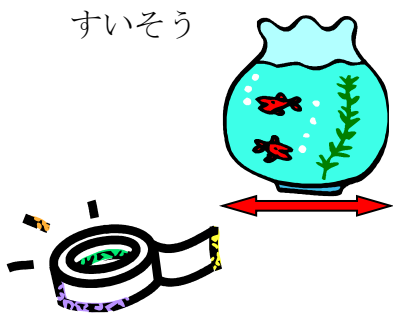
①  ()

 ()

② 
 たて ()
 よこ ()

③ 
 ()
 ()

2 したの ような いろいろな ものの ながさを かみテープを つかって くらべました。いちばん ながいのは どれですか。



いろいろな ものの ながさ
(かみのテープ)

すいそうの よこ	
テレビの ななめ	
つくえの よこ	
えんぴつけずりの よこ	

()


ふくしゅう


1ねん


ながさ ①

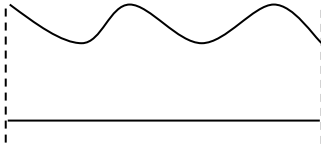

1

(1) どちらが ながいかな。ながい ほうに ○を つけましょう。

①  ()

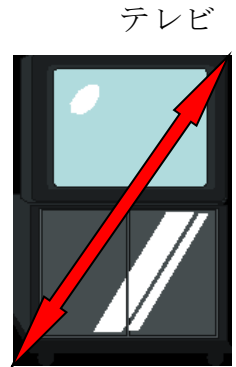


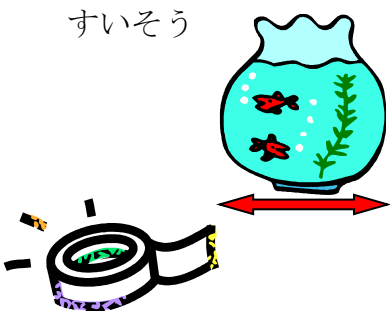
 (○)

②  たて ()
よこ (○)

③  (○)
 ()

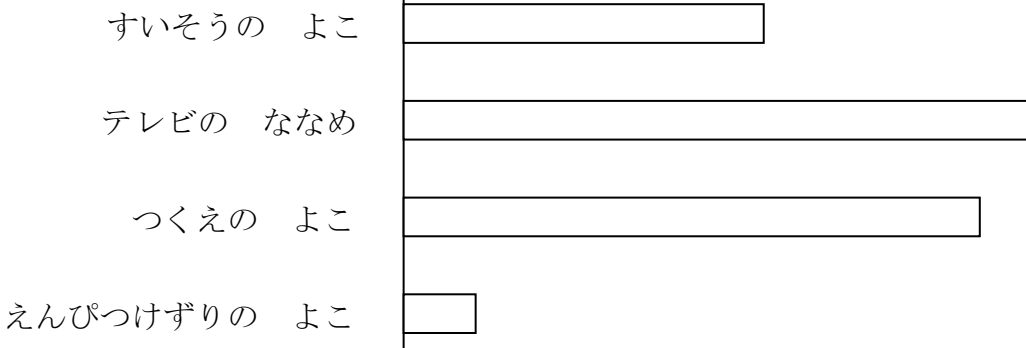
のばして みたら
どうなるかな・・・

2 したの ような いろいろな ものの ながさを かみテープを つかって くらべまし
た。いちばん ながいのは どれですか。



いろいろな ものの ながさ

(かみのテープ)



テープを つかって、
ながさを くらべる ことが
ことが できました!

(テレビのななめ)

【小学校算数・ワークブック】

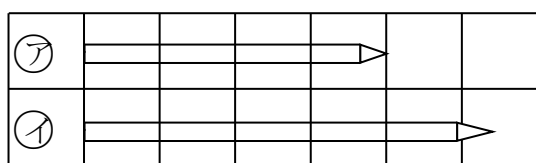
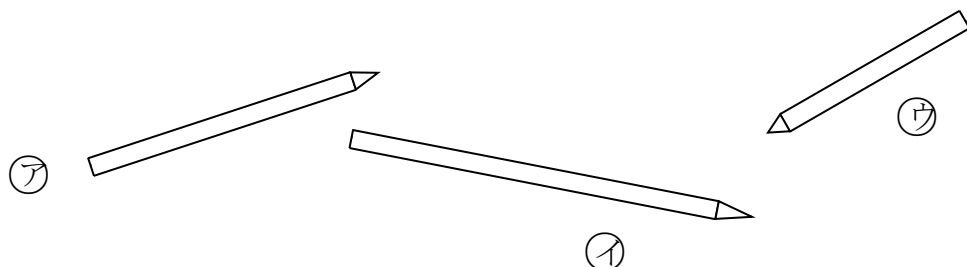
ふくしゅう

1ねん

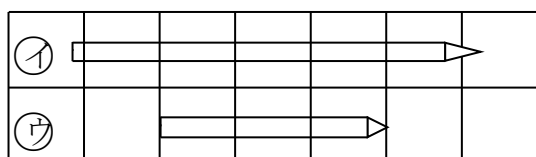
ながさ ②

ねん くみ なまえ

1 (1) 3ぼんの えんぴつの ながさくらべを します。



① アとイ では、どちらが ながいですか。
()



② イとウ では、どちらが ながいですか。
()

③ アは なんます ぶんの ながさ ですか。 () ます

ウは なんます ぶんの ながさ ですか。 () ます

アは ウの えんぴつより なんますぶん ながいですか。() ます

2 しょうたくんと まさおくんが つくえの たてと よこの ながさくらべを しました。
ただしい くらべかたは どちらでしょう。

まさおくん たては けしごむ 8こぶん。

よこは えんぴつ 4ほんぶん。

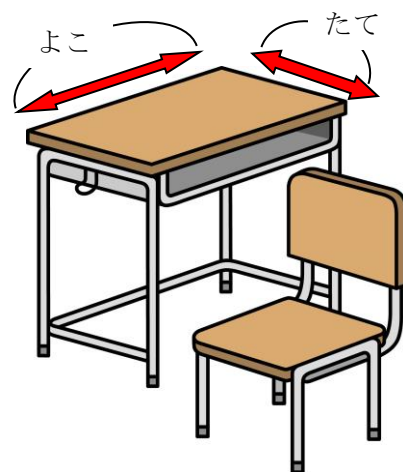
だから たての ほうが ながいよ。

しょうたくん たては けしごむ 8こぶん。

よこは けしごむ 12こぶん。

だから よこの ほうが ながいよ。

() くん

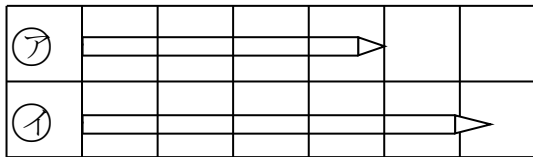
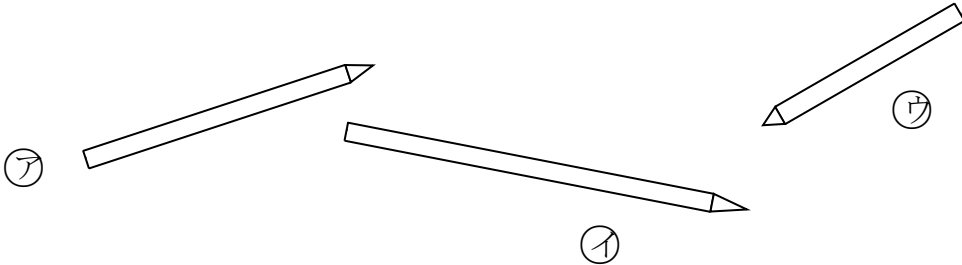


ふくしゅう

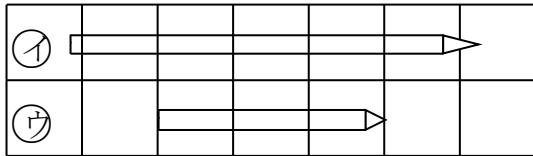
1ねん

ながさ ②

1 (1) 3本の えんぴつの ながさくらべを します。



① AとI では、どちらが ながいですか。
(I)



② IとU では、どちらが ながいですか。
(I)

③ Aは なんます ぶんの ながさ ですか。 (4) ます

Uは なんます ぶんの ながさ ですか。 (3) ます

Aは Uの えんぴつより なんますぶん ながいですか。(1) ます

2 しょうたくんと まさおくんが つくえの たてと よこの ながさくらべを しました。

ただしい くらべかたは どちらでしょう。

おなじ ながさの もの
で くらべるんだね。

まさおくん たては けしごむ 8こぶん。

よこは えんぴつ 4ほんぶん。

だから たての ほうが ながいよ。

しょうたくん たては けしごむ 8こぶん。

よこは けしごむ 12こぶん。

だから よこの ほうが ながいよ。

(しょうた) くん

