

ふくしゅう

1ねん

# たしざんとひきざん①

ねん くみ なまえ

1 なおさんと りょうさんが したの もんだいについて はなしあっています。

さるくんは あさ バナナを 6ぽん たべました。

ひるには 8ぽん たべました。

たべた バナナは なんぽん でしょう。



なおさん 「6ぽん たべて、8ぽん たべて…。たすのかな、ひくのかな。」

りょうさん「ひきざんだよ。だって たべるんだから へる もんだい だよ。」

なおさん 「えっ？ほんと？」

① たべた バナナの かずが わかるように ずに かいてみましょう。

また、どれが あさたべた バナナで、どれが ひるたべた バナナか

わかるように、かんがえてみましょう。

あさは 6ぽん  
○○○○○○  
ひるは・・・

② たしざん でしょうか、ひきざん でしょうか。あなたの かんがえを かきましょう。

( ) ざんの もんだいだと おもいます。

③ そう かんがえた わけを かきましょう。

④ ①の ずで あさ たべた バナナを ○で かこみましょう。

⑤ しきに かいて こたえを もとめましょう。

しき ( )

こたえ (たべたバナナは、ほん)



こたえが だせた？

②で と こたえたことと、くらべてみよう。

ほんとうに で あっていた？ あっていた・ちがっていた

○を つけてね。

ふくしゅう

1ねん

たしざんとひきざん①

ねん くみ なまえ

1 なおさんと りょうさんが したの もんだいについて はなしあっています。

さるくんは あさ バナナを 6ぽん たべました。

ひるには 8ぽん たべました。

たべた バナナは なんぽん でしょう。



なおさん 「6ぽん たべて、8ぽん たべて…。たすのかな、ひくのかな。」

りょうさん「ひきざんだよ。だって たべるんだから へる もんだい だよ。」

なおさん 「えっ？ほんと？」

① たべた バナナの かずが わかるように ずに かいてみましょう。

また、どれが あさたべた バナナで、どれが ひるたべた バナナか

わかるように、かんがえてみましょう。

あさは 6ぽん  
○○○○○○  
ひるは・・・

② たしざん でしょうか、ひきざん でしょうか。あなたの かんがえを かきましょう。

( たし ) ざんの もんだいだと おもいます。

③ そう かんがえた わけを かきましょう。

- ・ 食べたバナナは全部で何本かを聞いている問題だから。
- ・  $8 - 6 = 2$  とすると、食べたバナナが 2 本になっておかしいから。

など

④ 「たしざんとひきざん (2) ①-2」の ①の ずで  
あさ たべた バナナを  で かこみましょう。

⑤ しきに かいて こたえを もとめましょう。

しき (  $6 + 8 = 14$  )

こたえ (たべたバナナは、14ほん)



こたえが だせた？

②で  と こたえたことと、くらべてみよう。

ほんとうに  で あっていた？ あっていた・ちがっていた

○を つけてね。

ふくしゅう

1ねん

たしざんとひきざん②

ねん くみ なまえ

1 どうぶつたちが クッキーを  
もらおうと ならんでいます。

さるくんの うしろにも まだ  
だれか ならんでいるようですね。



さる「ぼくのうしろは、ライオンさんだよ。ぼくのうしろに まだ 7ひき いるよ。」

さるくんの はなしをきいて したの もんだいに こたえましょう。

① したの ずで さるくんの ○に いろを ぬりましょう。

さるくんは、  
まえから  
なんばんめかな？



② どうぶつたちは みんなで なんひき いるのでしょうか。ずの つづきを かきましょう。

③ どうぶつは、ぜんぶで なんびき いるのでしょうか。

「まだ 7ひき いるよ。」の  
「7」を つかうんだよ！

しき ( ) こたえ ( こ )

④ ぞうさんが みんなに くぼろうと、 バナナを 11ぽん もってきてくれました。

バナナは たりるでしょうか。③の こたえを つかって かんがえましょう。



ただしいほうに ○を  
つけよう。

こたえ (・たりる )  
(・たりない )

⑤ あなたも ④のように「たりるでしょうか」という もんだいを つくってみましょう。

	りんごを くぼる もんだいに しようかな…

ふくしゅう

1ねん

たしざんとひきざん②

ねん くみ なまえ

1 どうぶつたちが クッキーを  
もらおうと ならんでいます。

さるくんの うしろにも まだ  
だれか ならんでいるようですね。

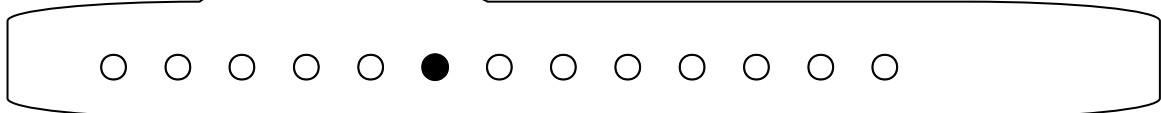


さる「ぼくのうしろは、ライオンさんだよ。ぼくのうしろに まだ 7ひき いるよ。」

さるくんの はなしをきいて したの もんだいに こたえましょう。

① したの ずで さるくんの ○に いろを ぬりましょう。

さるくんは、  
まえから  
なんばんめかな？



② どうぶつたちは みんなで なんひき いるのでしょうか。ずの つづきを かきましょう。

③ どうぶつは、ぜんぶで なんびき いるのでしょうか。

「まだ 7ひき いるよ。」の  
「7」を つかうんだよ！

しき (  $6 + 7 = 13$  ) こたえ ( 13こ )

④ ぞうさんが みんなに くぼろうと、 バナナを 11ぽん もってきてくれました。

バナナは たりるでしょうか。③の こたえを つかって かんがえましょう。



ただしいほうに ○を  
つけよう。

こたえ ( ・たりる )

( ・たりない )

⑤ あなたも ④のように「たりるでしょうか」という もんだいを つくってみましょう。

(解答例)

りんごを くぼる  
もんだいに しようかな...

ライオンさんがみんなにくぼろうとりんごを15こもってきました。

りんごはたりるでしょうか。

ふくしゅう

1ねん

# たしざんとひきざん③

ねん くみ なまえ

1 おはなしを よんで したの もんだいに こたえましょう。

けんじさんと しゅうさんは サッカーチームに はいっています。

チームの なかまは 16にんです。



2れつにならんで しゃしんを とることに なりました。まえに 7にん ならびます。

うしろの れつには なんにん ならぶことに なりますか。

したのしかくに ずをかいて、かんがえましょう。

こたえは 16より、

おおい? すくない?

ずにかいて かんがえましょう。



〇〇〇・・・  
というふうにかいてみよう!

しき

うしろは、

にん

ふくしゅう

1ねん

たしざんとひきざん③

ねん くみ なまえ

1 おはなしを よんで したの もんだいに こたえましょう。

けんじさんと しゅうさんは サッカーチームに はいっています。

チームの なかまは 16にんです。



2れつにならんで しゃしんを とることに なりました。まえに 7にん ならびます。

うしろの れつには なんにん ならぶことに なりますか。

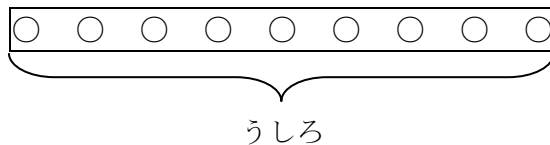
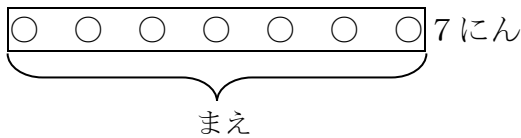
したのしかくに ずをかいて、かんがえましょう。

こたえは 16より、

おおい? すくない?

ずにかいて かんがえましょう。

みんなで 16にん



しき  $16 - 7 = 9$

うしろは、

9にん



ふくしゅう

1ねん

# たしざんとひきざん④

ねん くみ なまえ

1 おはなしを よんで したの もんだいに こたえましょう。

けんじさんと しゅうさんは サッカーチームに はいっています。

チームの なかまは 16にんです。



① チームのみんなで まるくなって おひるごはんを たべようとおもいます。

そこで、コーチがいすをもってきてくれましたが、5きやく たりません。

コーチは、いすを なんきやく もってきたのでしょうか。

したのしかくに ずをかいて、かんがえましょう。



こたえは 16より、  
おおい？ すくない？

ず

しき

コーチが もってきたいすは、

きやく



たりないかずだけ、  
おおしく まるで  
かこむと  
わかりやすいよ！

ふくしゅう

1ねん

たしざんとひきざん④

ねん くみ なまえ

1 おはなしを よんで したの もんだいに こたえましょう。

けんじさんと しゅうさんは サッカーチームに はいっています。

チームの なかまは 16にんです。



① チームのみんなで まるくなって おひるごはんを たべようとおもいます。

そこで、コーチがいすをもってきてくれましたが、5きやく たりません。

コーチは、いすを なんきやく もってきたのでしょうか。

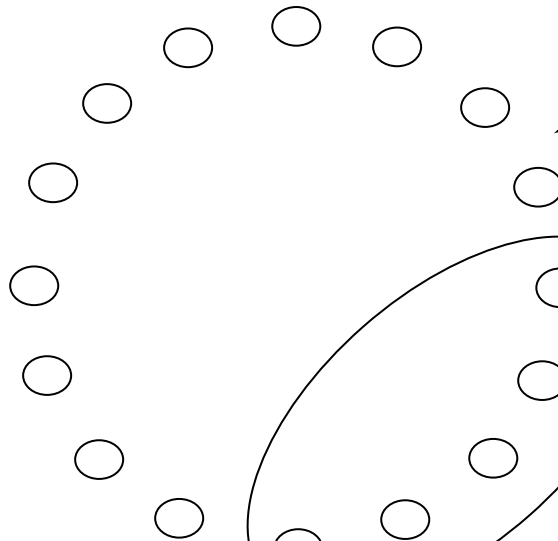
したのしかくに ずをかいて、かんがえましょう。



こたえは 16より、

おおい? すくない?

ず



○○○○○○○○○○○○○○

○ ○ ○ ○ ○ ○

10のたばで、かんがえてもいいですね。

5きやく  
たりないということは、  
5にん、すわれないと  
いうことだから…

しき

$$16 - 5 = 11$$

コーチが もってきたいすは、

11 きやく

ふくしゅう

1ねん

# たしざんとひきざん⑤

ねん くみ なまえ

1 おはなしを よんで したの もんだいに こたえましょう。

けんじさんと しゅうさんは サッカーチームに はいっています。  
チームの なかまは 16にんです。



② チームのみんなに、コーチから おにぎりを くばってもらいました。

おおめに かってあったので 3こあまりました。

おにぎりは、なんこ かってあったのでしょうか。

したのしかくに かぞえやすい ずをかいて、かんがえましょう。



あまったおにぎりは  
いろを かえて  
かいてみよう！  
○○○○●●

こたえは 16より、  
おおい？ すくない？

ず

しき

かってあった おにぎりは、

こ

ふくしゅう

1ねん

たしざんとひきざん⑤

ねん くみ なまえ

1 おはなしを よんで したの もんだいに こたえましょう。

けんじさんと しゅうさんは サッカーチームに はいっています。  
チームの なかまは 16にんです。



② チームのみんなに、コーチから おにぎりを くばってもらいました。

おおめに かってあったので 3こあまりました。

おにぎりは、なんこ かってあったのでしょうか。

したのしかくに かぞえやすいずをかいて、かんがえましょう。

こたえは 16より、  
**おおい?** すくない?

ず

○○○○○○○○○○○○

○○○○○○●●●

あまった 3こ

しき

$$16 + 3 = 19$$

かってあった おにぎりは、 **19** こ