


復習

1ねん

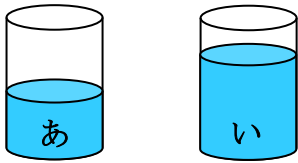
どちらが おおい

ねん くみ なまえ

① どちらが おおいですか。おおいほうの () に ○を かきましょう。

また、「おおい。」と おもった わけを  に かきましょう。

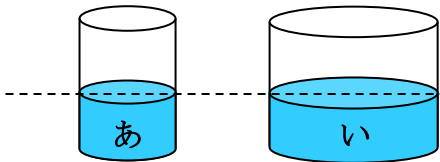
① () ()



おなじ おおきさの コップだけれど

より のほうが _____

② () ()

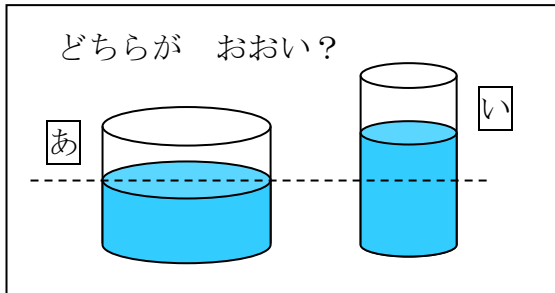


おなじ ふかさまで はいっているけ

れど、より のほうが _____

② どちらが おおいか、きつねさんは まよっています。でも、まよっているわけを

うまく せつめい できません。つづきを かいて あげましょう。



と、どちらが おおいのかなあ。みただけでは わからないな。

だって、は、よこに ながい コップだけれど、ふかく ないし、

は、 _____

_____。

だから、 に うつしかえたら わかるのに・・・




復習

1ねん

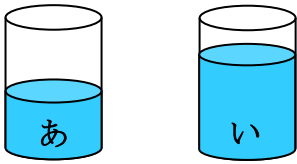
どちらが おおい

ねん くみ なまえ

1 どちらが おおいですか。おおいほうの () に ○を かきましょう。

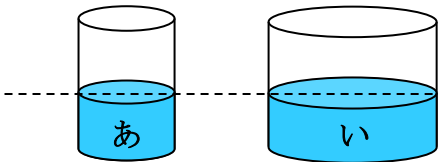
また、「おおい。」と おもった わけを  に かきましょう。

① () (○)



おなじ おおきさの コップだけれど
より のほうが たかいところま
で はいっているから。 など

② () (○)

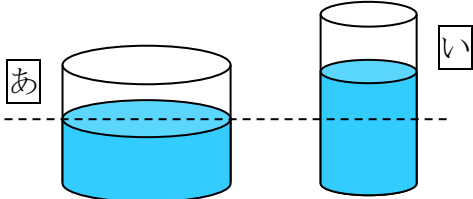


おなじ ふかさまで はいっているけ
 れど、より のほうが よこに
ひろい コップだから。 など

2 どちらが おおいか、きつねさんは まよっています。でも、まよっているわけを

うまく せつめい できません。つづきを かいて あげましょう。

どちらが おおい？



と、どちらが おおいのかなあ。みただけでは わからないな。
 だって、は、よこに ながい コップだけれど、ふかく ないし、
は、よこに みじかい こップだけれど ふかいところまで
はいっているから。 など。
 だから、 同じ大きさの
 コップ に うつしかえたら わかるのに・・・

