

がくねん
1ねん

おおきい かず⑤

ねん くみ なまえ

1 かずの 大きいほうを ○で かこみましょう。

84	89	69	60	79	90
----	----	----	----	----	----

2 100までの かずの カードで 大きさ くらべを しています。

みぎの ように 一のくらいが かくれて います。

アと イの どちらが 大きいか わかるでしょうか。

○を つけて、その わけも かきましょう。

わかる・わからない

わけ

ア	イ
8	5

3 おなじ ように、100までの かずの カードで 大きさ くらべを しています。

こんどは、みぎの ように 十のくらいが かくれて います。

アと イの どちらが 大きいか わかるでしょうか。

○を つけて、その わけも かきましょう。

わかる・わからない

わけ

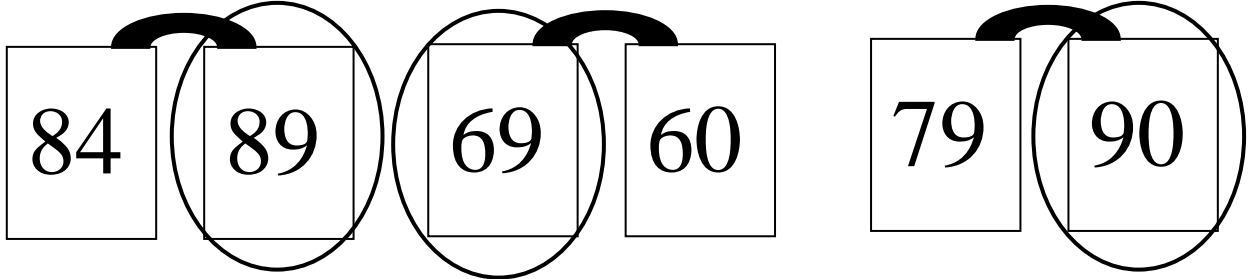
ア	イ
4	7

がくねん
1ねん

おおきい かず⑤

ねん くみ なまえ

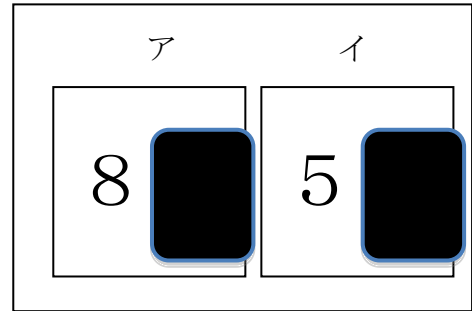
1 かずの 大きいほうを ○で かこみましょう。



2 100までの かずの カードで 大きさ くらべを しています。
みぎの ように 一のくらいが かくれて います。
アと イの どちらが 大きいか わかるでしょうか。
○を つけて、その わけも かきましょう。

わかる・わからない

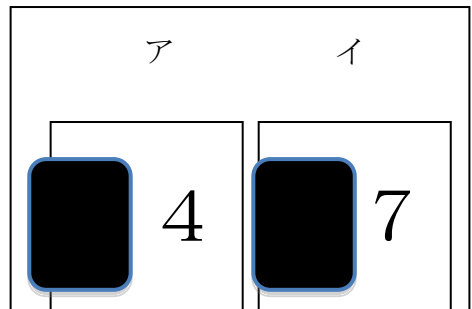
わけ
一のくらに、どんなすうがはいても、
十のくらいが8と5だから、アのほうがおおきい。



3 おなじ ように、100までの かずの カードで 大きさ くらべを しています。
こんどは、みぎの ように 十のくらいが かくれて います。
アと イの どちらが 大きいか わかるでしょうか。
○を つけて、その わけも かきましょう。

わかる・わからない

わけ
一のくらいはイの方が大きいけど、十のくらいが
アの方が大きかったら、アのかずがおおきくなるから
(十のくらいの大きい方が、かずは大きくなるから)



がくねん
1ねん

おおきい かず⑥

ねん くみ なまえ

1 49という かずを いろいろな いいかたで あらわしましょう。

10 を こ

1 を こ

あつめた かず

十のくらいが

一のくらいが

の かず

50より 小さい
かず

49

2 上と おなじ ように、98という かずを いろいろな いいかたで あらわしましょう。

10 を こ

1 を こ

あつめた かず

十のくらいが

一のくらいが

の かず

100より 小さい
かず

98

がくねん
1ねん

おおきい かず⑥

ねん くみ なまえ

- 1 49という かずを いろいろな いいかたで あらわしましょう。

10 を

4
9

 こ
1 を

9
4

 こ
あつめた かず

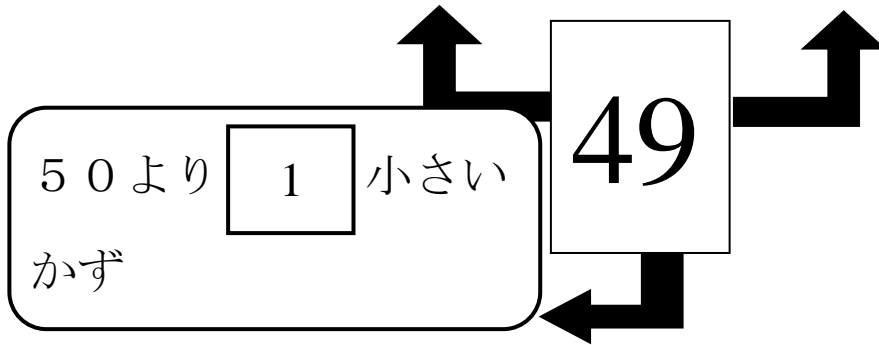
10 のくらいが

4
9

1 のくらいが

9
4

の かず



- 2 上と おなじ ように、98という かずを いろいろな いいかたで あらわしましょう。

10 を

9
8

 こ
1 を

8
9

 こ
あつめた かず

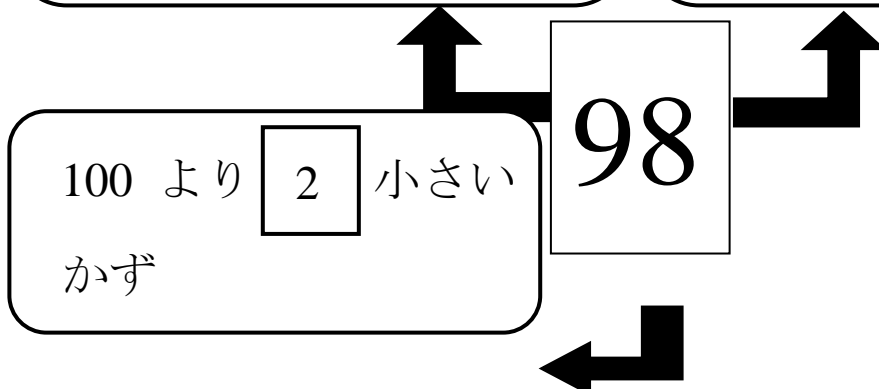
十のくらいが

9
8

一のくらいが

8
9

の かず



がくねん
1ねん

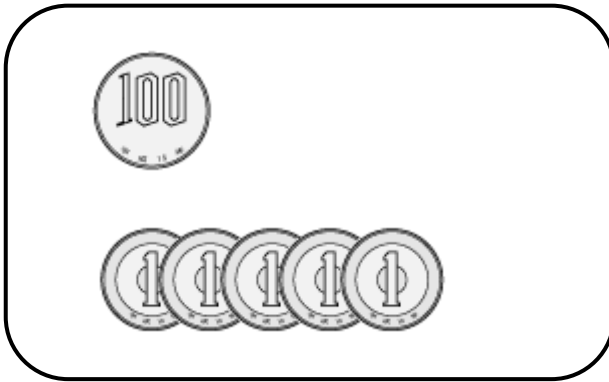
おおきい かず⑦

ねん くみ なまえ

1 □の なかに あてはまる かずを かぞえながら かきましょう。



2 ひさしさんの さいふの なかを みたら、したの おかねが はいってました。



① ぜんぶで なん円 はいって いますか。□に あてはまる かずを 入れて こたえ ましょう。

100 円玉が □ こ、1 円玉が □ こで □ 円です。

② くみこさんが 10 円 もっています。くみこさんの 10 円と ひさしさんの おかねを あわせると ぜんぶで なん円に なるでしょう。



ぜんぶで □ 円に なります。

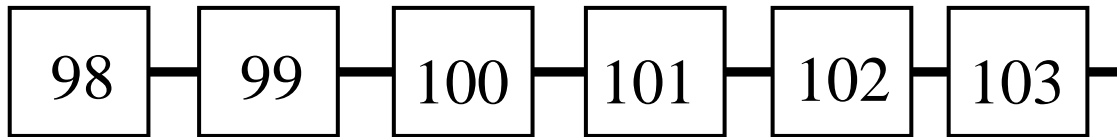
がくねん

1ねん

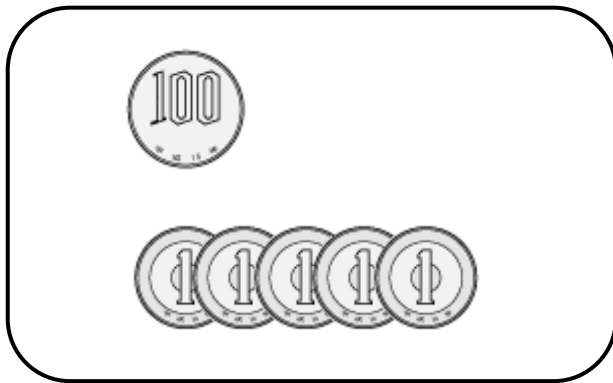
おおきい かず⑦

ねん くみ なまえ

① □の なかに あてはまる かずを かぞえながら かきましょう。



② ひさしさんの さいふの なかを みたら、したの おかねが はいってました。



① ぜんぶで なん円 はいって いますか。□に あてはまる かずを 入れて こたえ ましょう。

100 円玉が

1

こ、1 円玉が

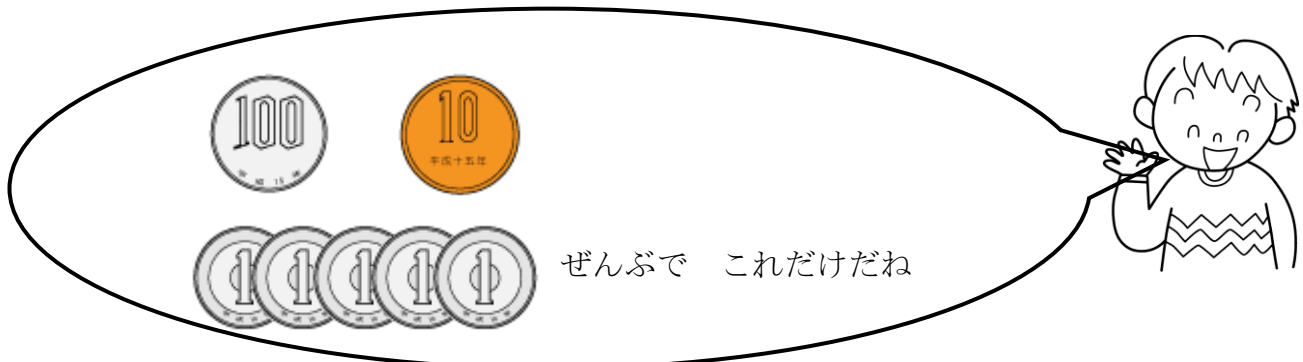
5

こで

105

円です。

② くみこさんが 10 円 もっています。くみこさんの 10 円と ひさしさんの おかねを あわせると ぜんぶで なん円に なるでしょう。



ぜんぶで これだけだね

ぜんぶで

115

円に なります。