

学 年

4 年

折れ線グラフ①

年 組 名 前

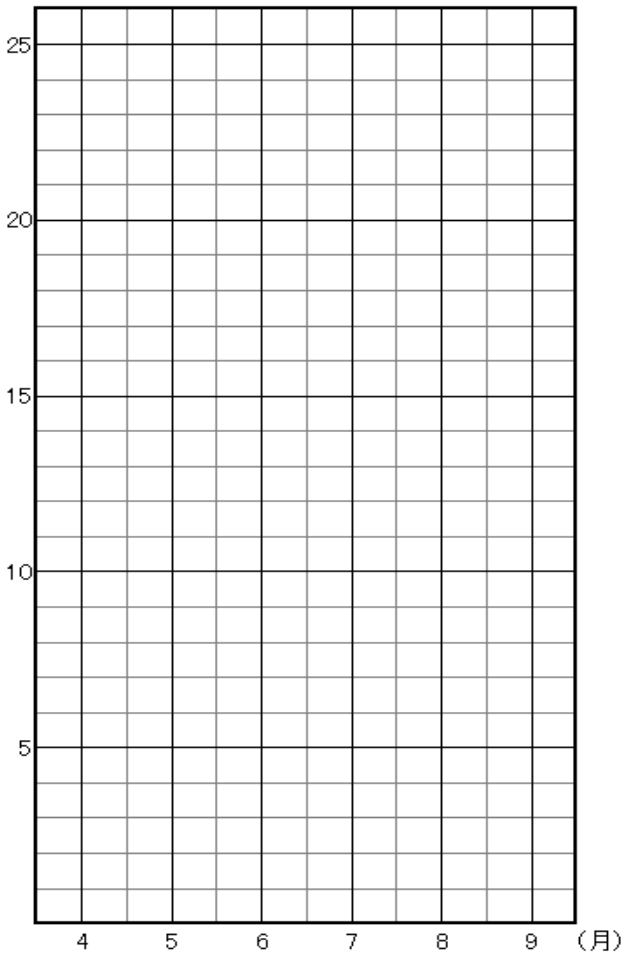
1. 下の新潟市の4月から9月の気温の表を2つの折れ線グラフに表しましょう。

月	4	5	6	7	8	9
気温	12	16	20	24	26	22

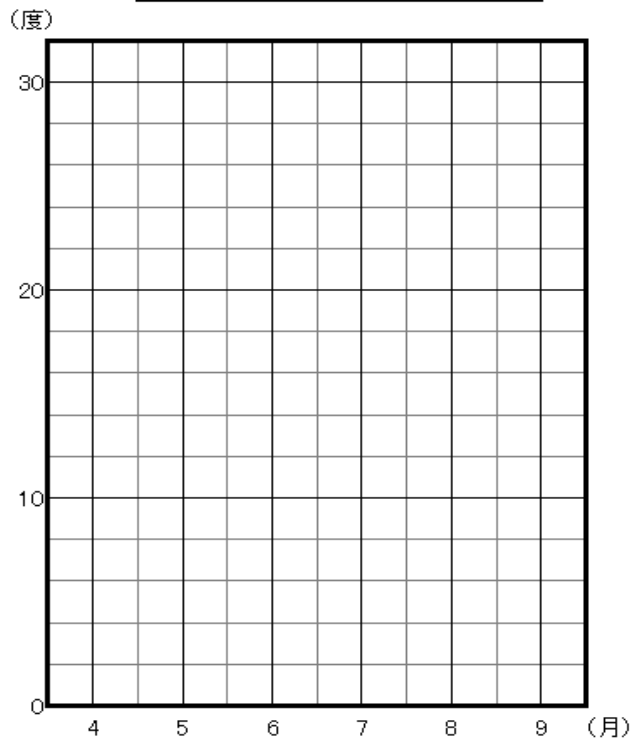
グラフA

グラフB

新潟市の月別気温



新潟市の月別気温



2. 同じ表をグラフにしたのに、ちがうグラフになるのはなぜですか？理由を書きましょう。

学 年

4 年

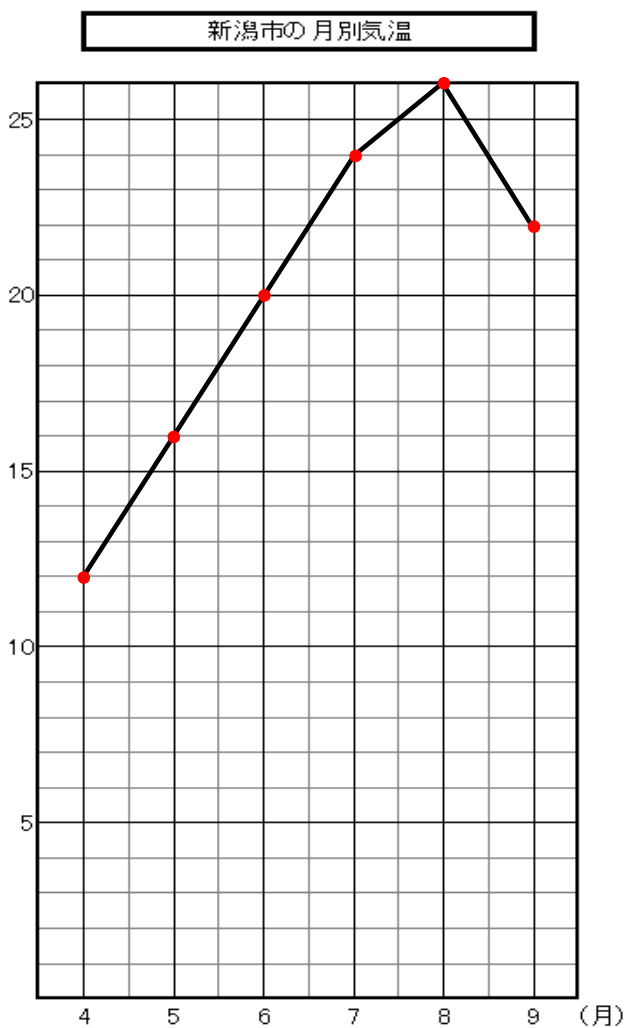
折れ線グラフ①

年 組 名 前 _____

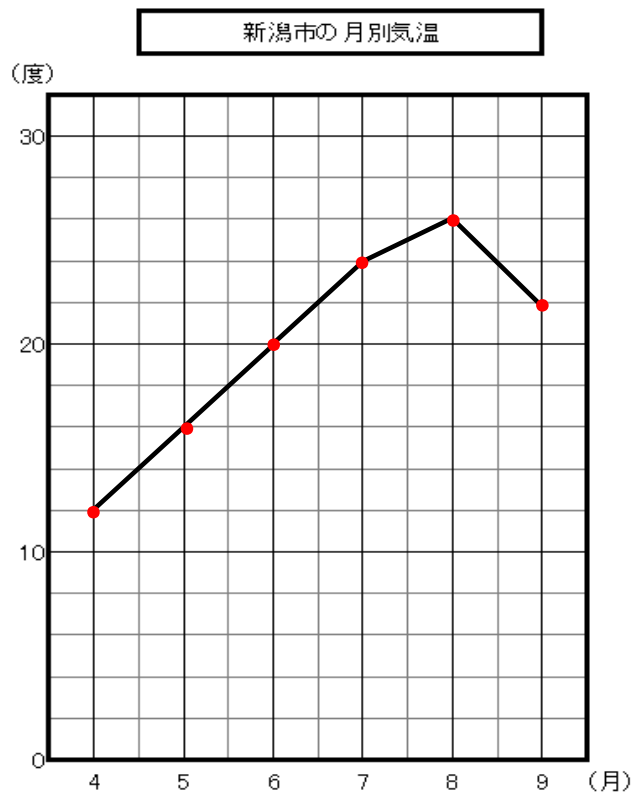
1. 下の新潟市の4月から9月の気温の表を2つの折れ線グラフに表しましょう。

月	4	5	6	7	8	9
気温	12	16	20	24	26	22

グラフA



グラフB



2. 同じ表をグラフにしたのに、ちがうグラフになるのはなぜですか？理由を書きましょう。

縦軸の1目もりの大きさが違うので、違うグラフになる。

【ワークブック 問題】

学 年	折れ線グラフ②
4 年	

年 組 氏名 _____

1. 下の2つの表をそれぞれ折れ線グラフで表しなさい。

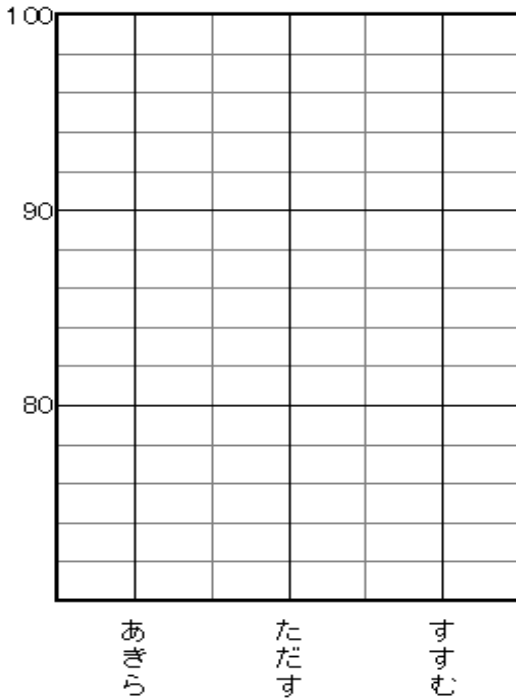
A：4月の3人の漢字テストの点数

	あきら	ただし	すすむ
点数	80	90	70


B：4月、5月、6月のあきらくんの漢字テストの点数

	4月	5月	6月
点数	80	94	100

3人の漢字テストの点数



4月、5月、6月のあきらくんの漢字テストの点数



2. 折れ線グラフに表したほうがいいのか、どちらでしょうか？

AかBか○をつけて、その理由も書きましょう。

(A B) のほうが、折れ線グラフにしたほうが良いと思います。

理由は

からです。

学 年

4 年

折れ線グラフ②

1. 下の2つの表をそれぞれ折れ線グラフで表しなさい。

A：4月の3人の漢字テストの点数

	あきら	ただし	すすむ
点数	80	90	70

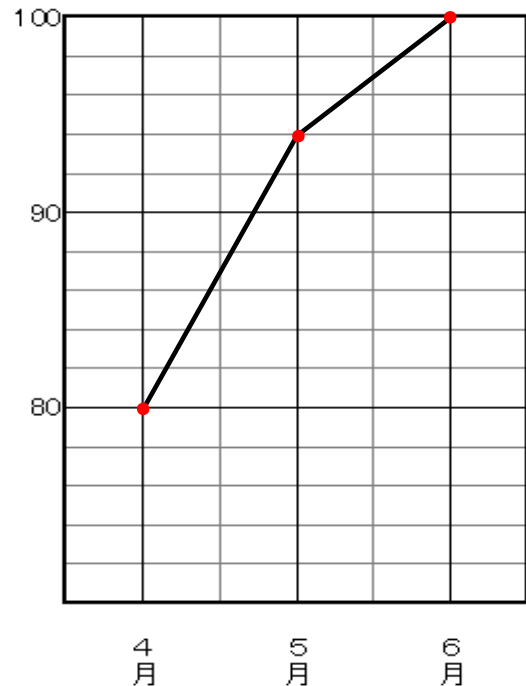
B：4月、5月、6月のあきらくんの漢字テストの点数

	4月	5月	6月
点数	80	94	100

3人の漢字テストの点数



4月、5月、6月のあきらくんの漢字テストの点数



2. 折れ線グラフに表したほうがいいのは、どちらでしょうか？

AかBか○をつけて、その理由も書きましょう。

(A **ⓑ**) のほうが、折れ線グラフにしたほうがいいと思います。

理由は

同じ人の点数をあらわしたほうが、変化がよく分かる

からです。

【ワークブック 問題】

学 年
4 年

折れ線グラフ③

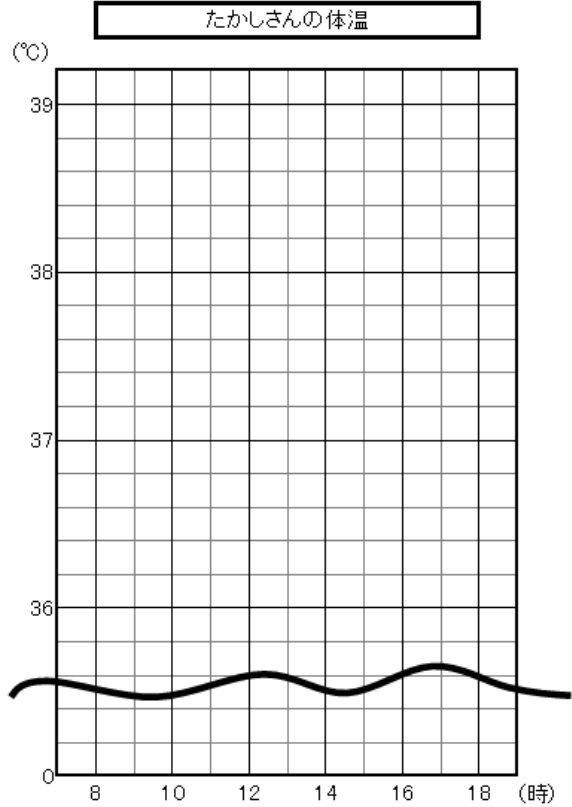
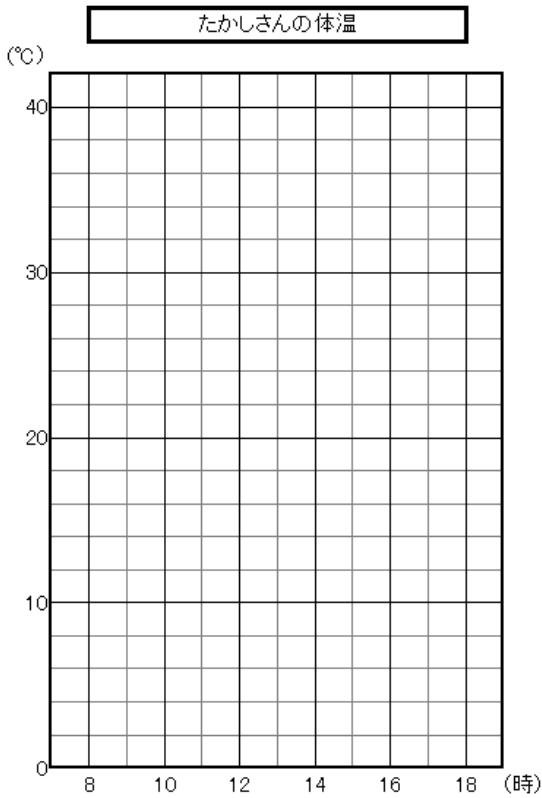
年 組 名 前 _____

1. 下の表は、たかしさんが風邪をひいたときの体温のうつりかわりです。
この表を二つの折れ線グラフに表しましょう。

時間 (時)	8	10	12	14	16	18
体温 (°C)	38	38.5	38	38	37.5	37

グラフ A

グラフ B



2. どちらのほうが分かりやすいですか。また、その理由を書きましょう。

グラフ () のほうが分かりやすいです。理由は

だからです。

学 年

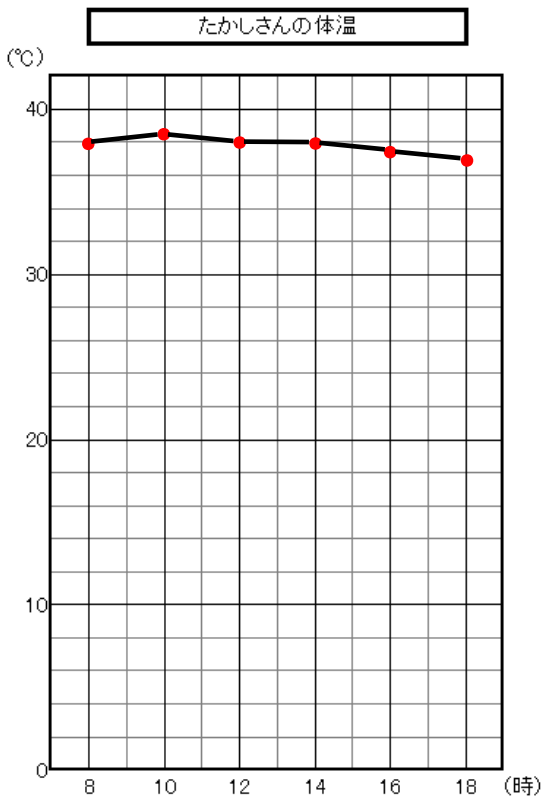
4 年

折れ線グラフ③

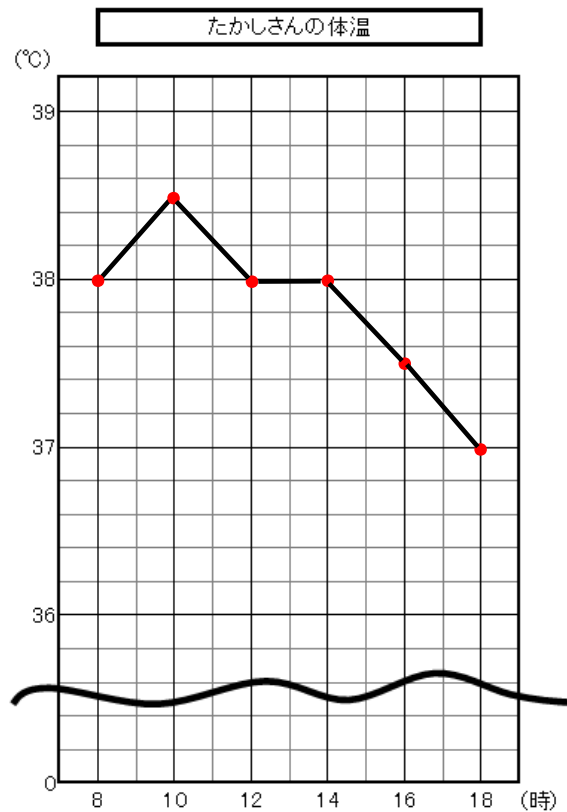
1. 下の表は、たかしさんが風邪をひいたときの体温のうつりかわりです。
この表を二つの折れ線グラフに表しましょう。

時間 (時)	8	10	12	14	16	18
体温 (°C)	38	38.5	38	38	37.5	37

グラフ A



グラフ B



2. どちらのほうが分かりやすいですか。また、その理由を書きましょう。

グラフ (B) のほうが分かりやすいです。理由は

気温の最初のほうが、省略されていて、縦軸が細かいので
体温のうつりかわりが、よく分かる

からです。

学 年

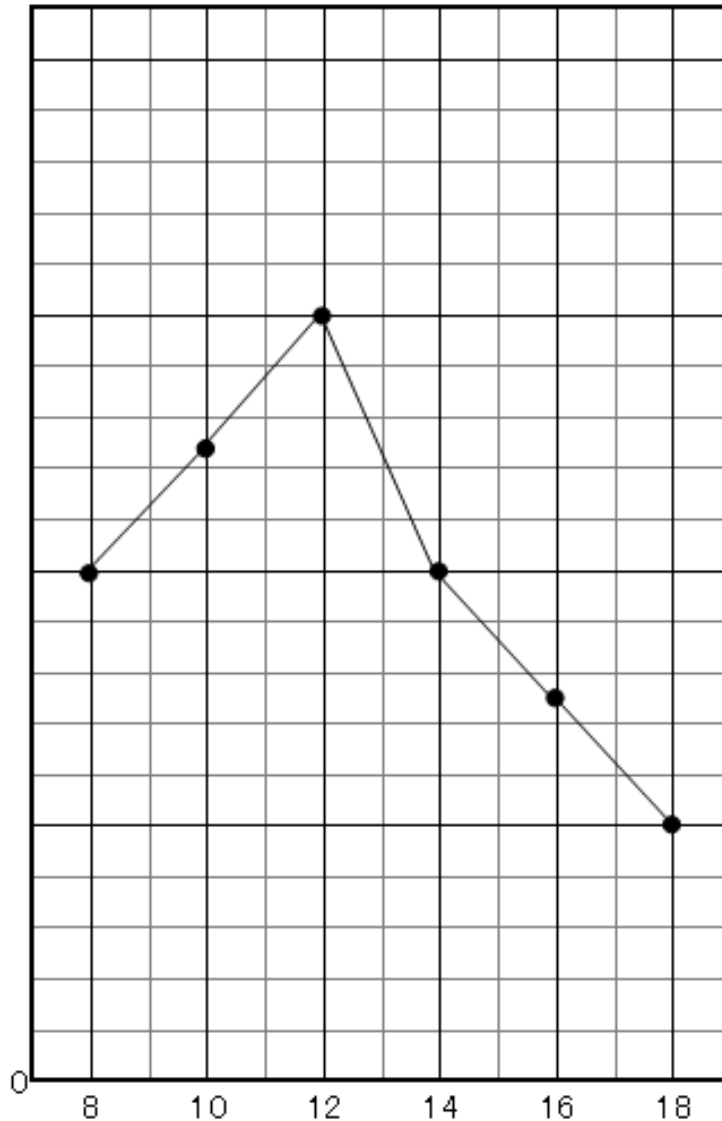
4 年

折れ線グラフ④

年 組 名 前 _____

1. 下の表は、ようこさんが風邪をひいたときの体温のうつりかわりです。
この表を折れ線グラフにあらわしました。しかし、
いくつか、足りないものがあります。足りないものをグラフに書き加えましょう

時間 (時)	8	10	12	14	16	18
体温 (°C)	37	37.5	38	37	36.5	36



学 年

4 年

折れ線グラフ④

1. 下の表は、ようこさんが風邪をひいたときの体温のうつりかわりです。

この表を折れ線グラフにあらわしました。しかし、

いくつか、足りないものがあります。足りないものをグラフに書き加えましょう

時間 (時)	8	10	12	14	16	18
体温 (°C)	37	37.5	38	37	36.5	36

ようこさんの体温

