



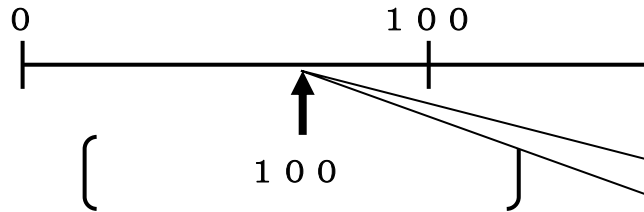
学 年  
4年復習

およその数①

年 組 名 前 \_\_\_\_\_


1 次の(1)～(5)の数直線上に↑がかかれています。よみとれる目もりでいちばん近い数を答えましょう。

(れい)

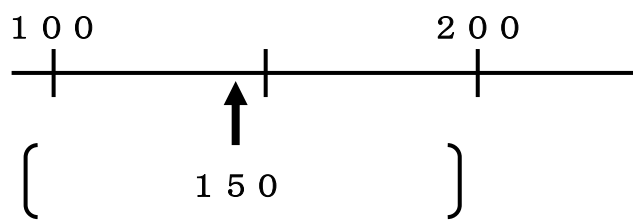


0よりも、100の方が、近いね。

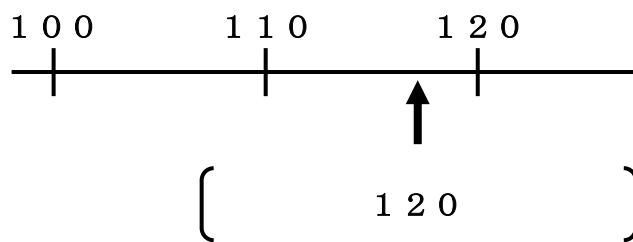
(1)



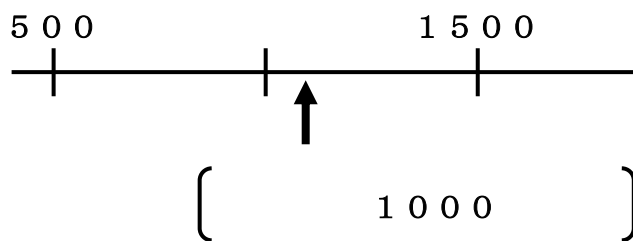
(2)



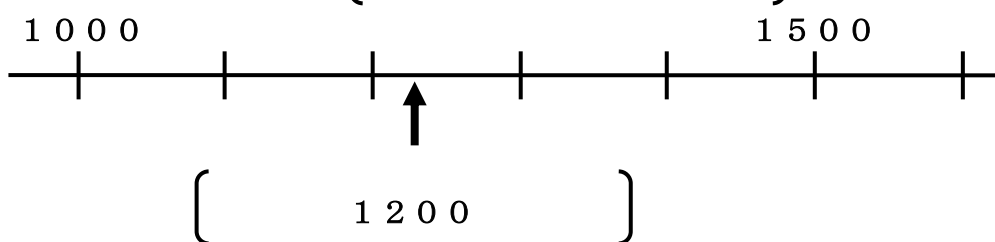
(3)



(4)



(5)





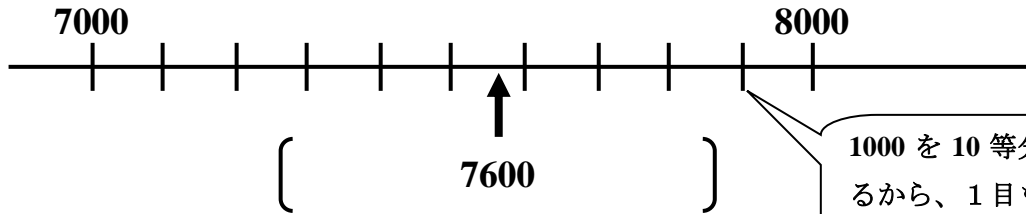
学 年

4年復習

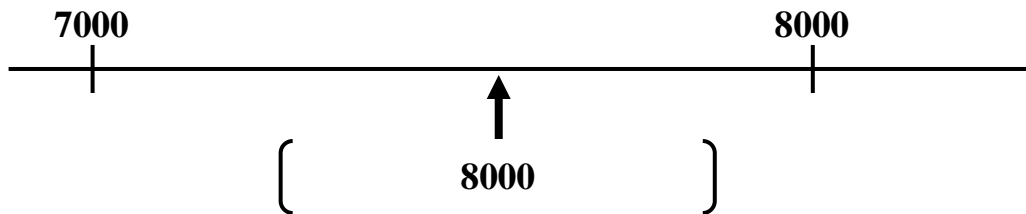
およその数②

年 組 名 前

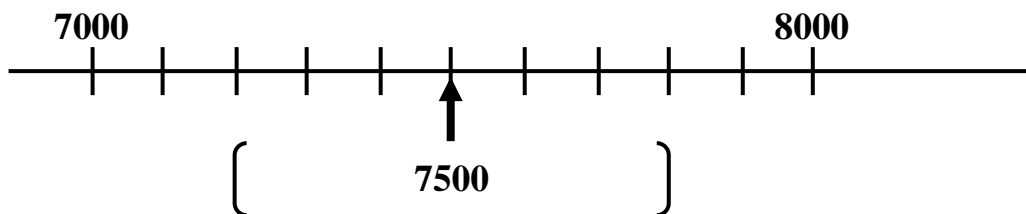
- 1 (1) 次の数直線上に ↑ がかかれています。よみとれる目もりでいちばん近い数を答えましょう。



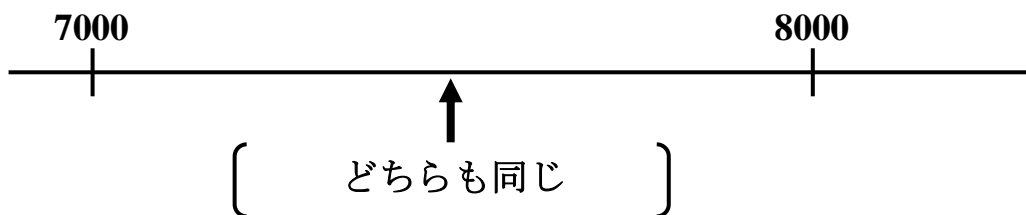
- (2) では、7000と8000では、どちらが近いでしょう。



- (3) 次の数直線上に ↑ がかかれています。よみとれる目もりでいちばん近い数を答えましょう。



- (4) では、7000と8000では、どちらが近いでしょう。



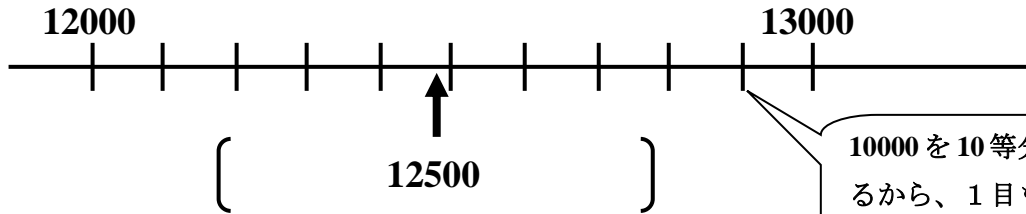


学 年  
4年復習

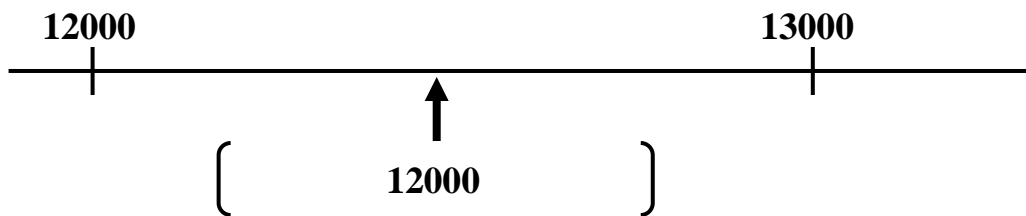
およその数③

年 組 名前 \_\_\_\_\_

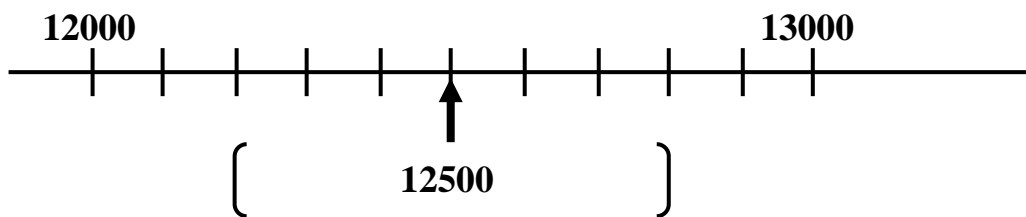
- 1 (1) 次の数直線上に ↑ がかかれています。よみとれる目もりでいちばん近い数を答えましょう。



- (2) では、12000と13000では、どちらが近いでしょう。



- (3) 次の数直線上に ↑ がかかれています。よみとれる目もりでいちばん近い数を答えましょう。



- (4) では、7000と8000では、どちらが近いでしょう。

