

【解答用紙】

1 H22A6

エ

2 H26A7

1

3 ワークブック「円柱と角柱」1

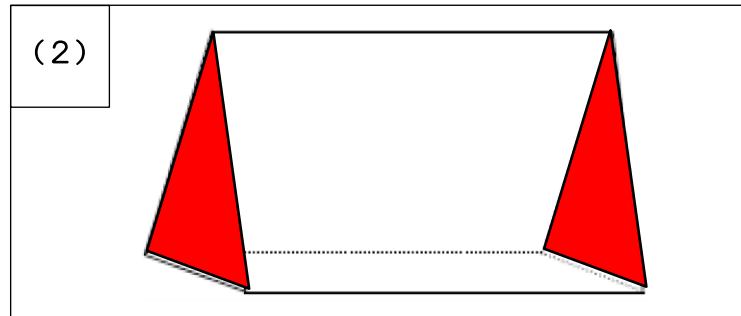
角柱	あ, え	円柱	い, う
----	------	----	------

4 ワークブック「円柱と角柱」2

- () 2つの底面は、平行な関係になっているよ。
- () 頂点は6つあるよ。
- () 辺は12本だよ。
- () 面の数は5つだよ。
- () 側面は曲面になっているよ。
- () 平行になっている面は3組だよ。
- () 面の数は3つだよ。
- () 底面と側面があるよ。

5 ワークブック「円柱と角柱」3

(1) 三角柱



6 ワークブック「円柱と角柱」(2) ①

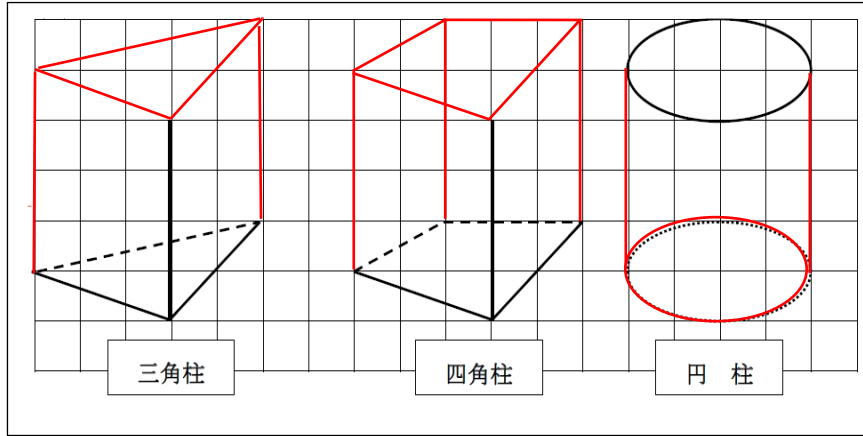
(1)	あ	三角形	い	四角形
	う	五角形	え	六角形

(2)	あ	三角柱	い	四角柱
	う	五角柱	え	六角柱

解答用紙

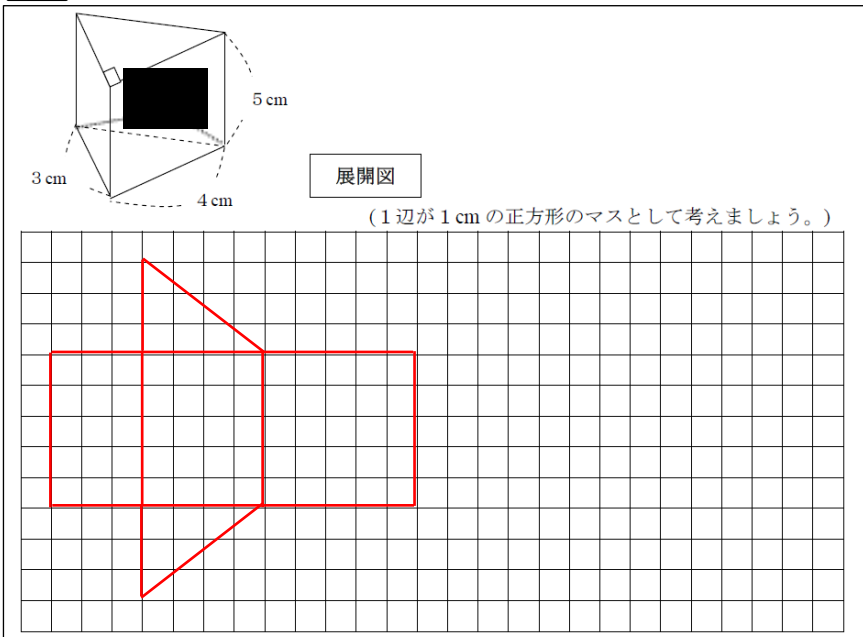
7

ワークブック「円柱と角柱」(2) ②1



8

ワークブック「円柱と角柱」(2) ②2



9

ワークブック「円柱と角柱」(2) ③2

(1)

五角柱

(2)

面あ, 面き

(3)

点カ, 点コ

(4)

辺ツチ

10

H25A7

(1)

8 cm

(2)

式 (例) 6×3.14

答え 18.84 cm